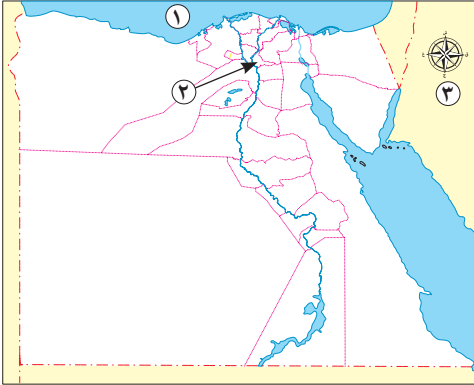


السؤال الأول لاحظ الخريطة ثم أجب:



- ١ يشير رقم (١) إلى البحر
- ٢ يشير رقم (٢) إلى عاصمة مصر
- ٣ صَوِّب: يشير رقم (٣) إلى مفتاح الخريطة

السؤال الثاني أكمل العبارات الآتية بكلمات مناسبة:

- ١ إذا أردت معرفة المزيد عن أهمية موقع مصر الجغرافي، فعليك بقراءة مؤلفات
- ٢ لوحة الملك نعرمر (مينا) تُعدُّ مصدرًا
- ٣ محافظة القليوبية إحدى محافظات الوجه
- ٤ يتَّخذُ عَلمُ مصر شكل

السؤال الثالث اكتب كلمة (صواب) أمام العبارة الصحيحة، وكلمة (خطأ) أمام العبارة غير الصحيحة:

- ١ محمد عبد الوهاب هو مؤلف كلمات النشيد الوطني لمصر. ()
- ٢ الصور الفضائية تُغطِّي مساحة أكبر من الصور الجوية. ()
- ٣ حُفرت قناة السويس في عهد الملك سنوسرت الثالث. ()

السؤال الرابع اختر الإجابة الصحيحة مما بين القوسين:

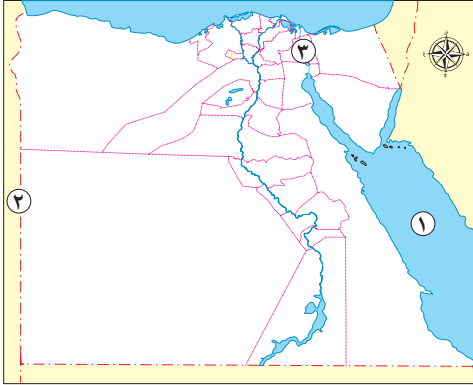
- ١ الشخص الذي يستخدم الخريطة لتحديد المواقع الحربية هو
(ضابط الجيش - التلميذ - الفلاح - قبطان السفينة)
- ٢ يحيط اليابس مصر من جهتي
(الشمال والجنوب - الشرق والغرب - الجنوب والغرب - الشمال والشرق)
- ٣ أكبر محافظات مصر من حيث المساحة
(شمال سيناء - جنوب سيناء - الوادي الجديد - بني سويف)

السؤال الخامس أجب عما يلي:

- ١ بم تفسر: أهمية وجود عَلم لكل دولة؟
- ٢ كيف يمكنك التأكد من صحة المعلومات الواردة في كتاب ما؟ (يُكتفى بواحدة)



السؤال الأول: لاحظ الخريطة ثم أجب:



- ١ يشير رقم (١) إلى البحر
- ٢ يشير رقم (٢) إلى دولة
- ٣ صواب أم خطأ: يشير رقم (٣) إلى ممرٍ ملاحي مهم. ()

السؤال الثاني: أكمل العبارات الآتية بكلمات مناسبة:

- ١ يدلُّ اللون الأبيض في عَلَم مصر على
- ٢ ربطت قناة سيزوستريس بين البحر الأحمر والبحر المتوسط عن طريق
- ٣ أصغر محافظات مصر من حيث المساحة هي

السؤال الثالث: اكتب كلمة (صواب) أمام العبارة الصحيحة، وكلمة (خطأ) أمام العبارة غير الصحيحة:

- ١ يقع مسجد عمرو بن العاص في أحد محافظات الحدود الصحراوية. ()
- ٢ استخدم المصريون نهر النيل في التجارة مع دول وسط آسيا. ()
- ٣ الصور الجوية يتم التقاطها بواسطة الطائرات. ()
- ٤ موسوعة تاريخ مصر القديمة تُعد مصدرًا ثانويًا. ()

السؤال الرابع: اختر الإجابة الصحيحة مما بين القوسين:

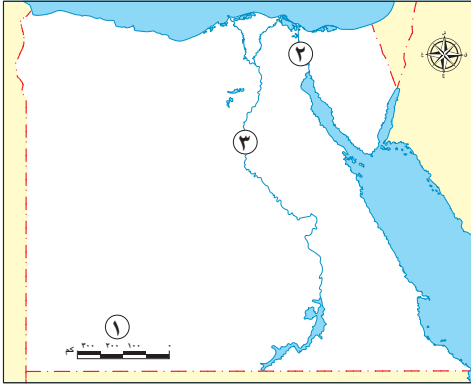
- ١ إذا أرت زيارة أحد محافظات الوجه القبلي يجب عليك السفر إلى محافظة
(مطروح - أسوان - المنوفية - البحيرة)
- ٢ يمتد الوطن العربي في قارتي إفريقيا و
(أوروبا - أمريكا الشمالية - آسيا - أمريكا الجنوبية)
- ٣ يتضمَّن شعار محافظة القاهرة عدة رموز منها
(مسجد السلطان حسن - الجامع الأزهر الشريف - مسجد محمد علي - مسجد أحمد بن طولون)

السؤال الخامس: أجب عما يلي:

- ١ اكتب سلوكًا واحدًا تُعبّر به عن احترامك لعَلَم بلدك.
- ٢ بم تفسر: أهمية قناة السويس الجديدة؟ (يُكتفى بواحدة)



السؤال الأول: لاحظ الخريطة ثم أجب:



- ١ يشير رقم (١) إلى أحد عناصر الخريطة.....
- ٢ صوّب: يشير رقم (٢) إلى قناة سيزوستريس.
- ٣ يشير رقم (٣) إلى نهر.....

السؤال الثاني: أكمل العبارات الآتية بكلمات مناسبة:

- ١ موسوعة الحضارة العربية الإسلامية تُعد مصدرًا.....
- ٢ يمرُّ طريق رأس الرجاء الصالح حول قارة.....
- ٣ يتوسط عَلم مصر طائرٌ ذهبيُّ اللون هو.....

السؤال الثالث: اكتب كلمة (صواب) أمام العبارة الصحيحة، وكلمة (خطأ) أمام العبارة غير الصحيحة:

- ١ تضم شبه جزيرة سيناء ثلاث محافظات.
 - ٢ تقع مصر شمال شرق قارة أفريقيا.
 - ٣ تتَّخذ جميع محافظات مصر شعارًا واحدًا.
- () () ()

السؤال الرابع: اختر الإجابة الصحيحة مما بين القوسين:

- ١ المعلومات التي تم التأكد من صحتها هي.....
 - ٢ عنصر يوضح مدلول الرموز والألوان الموجودة في الخريطة.....
 - ٣ إحدى قارات العالم الجديد.....
 - ٤ لَحْنُ النشيد الوطني.....
- (آراء - حقائق - خيال - معتقدات)
- (مفتاح الخريطة - مقياس الرسم - عنوان الخريطة - وردة البوصلة)
- (آسيا - أوروبا - إفريقيا - أستراليا)
- (أحمد شوقي - حافظ إبراهيم - محمد يونس - سيد درويش)

السؤال الخامس: أجب عما يلي:

- ١ ما المقصود بـ: المحافظة؟
- ٢ بم تفسر: اختيار القاهرة عاصمة مصر على مَرِّ التاريخ؟



السؤال الأول: لاحظ الخريطة ثم أجب:



- ١ يشير رقم (١) إلى دولة
- ٢ يشير رقم (٢) إلى إحدى محافظات الحدود الصحراوية
- ٣ صوّب: يشير رقم (٣) إلى عنوان الخريطة.

السؤال الثاني أكمل العبارات الآتية بكلمات مناسبة:

- ١ يرتبط القائد جوهر الصِّقْلِيّ بالعيد القومي لمحافظة
- ٢ «مساحة واسعة من الماء المالح ذات أعماق كبيرة» تشير العبارة إلى مفهوم
- ٣ نستخدم وردة البوصلة لتحديد
- ٤ تربط قناة السويس بين البحر الأحمر و

السؤال الثالث اكتب كلمة (صواب) أمام العبارة الصحيحة، وكلمة (خطأ) أمام العبارة غير الصحيحة:

- ١ أنشأت الدولة العاصمة الإدارية الجديدة لتخفيف الضغط السكاني. ()
- ٢ إهانة العَلَمِ المصري جريمة يُعاقب عليها القانون. ()
- ٣ «تقع مصر في قارة أفريقيا» تُعبّر هذه العبارة عن رأي. ()

السؤال الرابع اختر الإجابة الصحيحة مما بين القوسين:

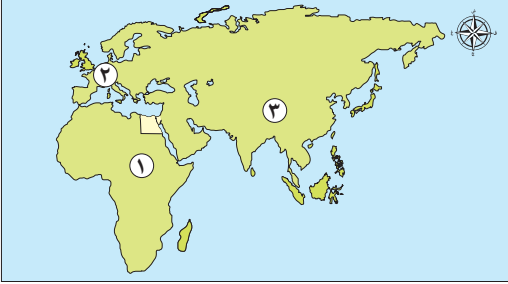
- ١ الحدود الإدارية تفصل بين
- (الجبال - المحافظات - الدول - القارات)
- ٢ النسر الذهبي الذي يتوسط عِلْمِ مصر مأخوذ عن القائد
- (سيف الدين قطز - صلاح الدين الأيوبي - جوهر الصِّقْلِيّ - الظاهر بيبرس)
- ٣ تُعد محافظتك من محافظات
- (الوجه القبلي - الوجه البحري - الحدود الصحراوية - دول الجوار)

السؤال الخامس صنّف المصادر التالية إلى مصادر أولية ومصادر ثانوية:

(كتاب شخصية مصر - لوحة نعرمر «ميناء» - صورة لافتتاح قناة السويس ١٨٦٩ م - بحث عن أهمية قناة السويس)



السؤال الأول: لاحظ الخريطة ثم أجب:



- ١ يشير رقم (١) إلى قارة يقع فيها وطننا الحبيب مصر
- ٢ يشير رقم (٢) إلى إحدى قارات العالم القديم
- ٣ صَوِّبْ: يشير رقم (٣) إلى قارة أستراليا.

السؤال الثاني: أكمل العبارات الآتية بكلمات مناسبة:

- ١ حُفرت قناة سيزوستريس في عهد الملك
- ٢ يمكنك الذهابُ إلى المواقع المختلفة باستخدام نظام
- ٣ تشير الشمس في شعار محافظة القاهرة إلى أهمية

السؤال الثالث: اكتب كلمة (صواب) أمام العبارة الصحيحة، وكلمة (خطأ) أمام العبارة غير الصحيحة:

- ١ أحد أهم مشروعات تطوير العاصمة المصرية تطوير حي السيدة زينب. ()
- ٢ يشير اللون الأسود في عَلَم مصر إلى دماء الشهداء. ()
- ٣ اتجاه الشمال من الاتجاهات الفرعية. ()
- ٤ التعبير عن وجهات نظر شخصية قد تكون صحيحة أو خطأ تُسمَّى رأياً. ()

السؤال الرابع: اختر الإجابة الصحيحة مما بين القوسين:

- ١ أحد المصادر الأولية
(الكتب - المقالات - البريدات - الموسوعات)
- ٢ يُرْفَع عَلَم مصر على وسائل النقل الدولية ومنها
(القطارات - السيارات - الطائرات - الدراجات)
- ٣ تتركز معظم الوزارات في محافظة
(القاهرة - المنيا - مطروح - بورسعيد)

السؤال الخامس: أجب عما يلي:

- ١ سجِّل أحد مظاهر الاحتفال بالعيد القومي في محافظتك.
- ٢ بم تفسر: أهمية الخريطة في حياتنا؟ (يُكتفى بواحدة)



إجابة الاختبار ١

السؤال الأول:

١ المتوسط.

السؤال الثاني:

١ جمال حمدان.

٣ البحري.

السؤال الثالث:

١ خطأ.

السؤال الرابع:

١ ضابط الجيش.

السؤال الخامس:

١ لأن العَلَمَ رمز للدولة تتخذه ليُعبّر عن تاريخها وتراثها.

٢ معرفة من هو المؤلف - ما هدف المؤلف من النص - هل شارك في الحدث أو عاصر وقت حدوثه - هل هدفه تزويد بالمعلومات أم إقناعك بفكرة ما - مقارنة المعلومات مع مصادر أخرى.

إجابة الاختبار ٢

السؤال الأول:

١ الأحمر.

٣ صواب.

السؤال الثاني:

١ السلام.

السؤال الثالث:

١ خطأ.

٣ صواب.

السؤال الرابع:

١ أسوان.

السؤال الخامس:

١ الوقوف باحترام في أثناء تحية العَلَم - المحافظة على العَلَم ورفعته عاليًا - عدم الكتابة أو الرسم على العَلَم - عدم لمسه أو ابتلاله بالماء - عدم تمزيقه أو حرقه. (تُقبَل جميع الإجابات المنطقية الصحيحة).

٢ ساعدت على تقليل زمن مرور السفن في القناة - السماح بمرور السفن في الاتجاهين - استيعاب سفن أكبر في الحجم والحمولة.



إجابة الاختبار ٣

٢ السويس. ٣ النيل.

٢ إفريقيا. ٣ النسر.

٢ صواب. ٣ خطأ.

٢ مفتاح الخريطة.

٤ سيد درويش.

السؤال الأول:

١ مقياس الرسم.

السؤال الثاني:

١ ثانويًا.

السؤال الثالث:

١ خطأ.

السؤال الرابع:

١ حقائق.

٣ أستراليا.

السؤال الخامس:

١ هي مساحة من الأرض تضم مجموعة من المراكز والأحياء.

٢ بسبب موقعها المتميز؛ لأنها نقطة التقاء الوجه البحري بالوجه القبلي.

إجابة الاختبار ٤

٢ مطروح. ٣ مفتاح الخريطة.

٢ المحيط.

٤ البحر المتوسط.

٢ صواب. ٣ خطأ.

٢ صلاح الدين الأيوبي. ٣ أجب بنفسك.

السؤال الأول:

١ جمهورية السودان.

السؤال الثاني:

١ القاهرة.

٣ الاتجاهات.

السؤال الثالث:

١ صواب.

السؤال الرابع:

١ المحافظات.

السؤال الخامس:

مصادر أولية	مصادر ثانوية
لوحة نعمر «مينا»	كتاب شخصية مصر
صورة لافتتاح قناة السويس ١٨٦٩ م	بحث عن أهمية قناة السويس



إجابة الاختبار ٥

السؤال الأول:

١ إفريقيا.

٢ أوروبا.

٣ آسيا.

السؤال الثاني:

١ سنوسرت الثالث.

٢ GPS.

٣ الجامع الأزهر.

السؤال الثالث:

١ صواب.

٢ خطأ.

٣ خطأ.

٤ صواب.

السؤال الرابع:

١ البريدات.

٢ الطائرات.

٣ القاهرة.

السؤال الخامس:

- ١ افتتاح المحافظ عددًا من المشروعات لخدمة أبناء المحافظة - تزيين وتجميل الميادين والشوارع - إقامة المهرجانات والاحتفالات والمسابقات التي يُرْفَع فيها عَلم مصر وشعار المحافظة. (يُكْتَفَى بنقطة واحدة)
- ٢ - يستخدمها التلميذ في المذاكرة.
- يستخدمها المعلم في الشرح.
- يستخدمها رجال الجيش في تحديد المواقع العسكرية.
- يستخدمها الفلاح تحديد ملكية الأرض الزراعية.
- يستخدمها السائح في الوصول إلى الأماكن السياحية والأثرية.
- يستخدمها القبطان والطيار في تحديد المواقع.



اختبارات المحافظات على شهر أكتوبر



١٥

يجيب عنها التلميذ

الاختبار الأول



١ لاحظ الخريطة، ثم أجب:

- ١ - البحر
- ٢ - يشير الرقم (٢) إلى أحد عناصر الخريطة (الدقهلية ٢٠٢٣)
- ٣ - محافظة حدود صحراوية (البحيرة ٢٠٢٣)

(الإسكندرية ٢٠٢٣)

(أسيوط ٢٠٢٣)

(بورسعيد ٢٠٢٣)

٢ أكمل العبارات الآتية بكلمات مناسبة:

- ١ - لون في علم مصر يدل على السلام
- ٢ - أصغر المحافظات المصرية مساحة هي
- ٣ - الجامع الموجود على شعار محافظة القاهرة هو

٣ اكتب كلمة (صواب) أمام العبارة الصحيحة، وكلمة (خطأ) أمام العبارة غير الصحيحة:

- ١ - لرسم خريطة تفصيلية لجزء من مصر فإنك تعتمد على الصور الجوية. () (دمياط ٢٠٢٣)
- ٢ - عدد محافظات الحدود الصحراوية أربع محافظات. () (بني سويف ٢٠٢٣)
- ٣ - يجب علينا تحري دقة المعلومات قبل نشرها. () (السويس ٢٠٢٣)
- ٤ - يحد مصر من الناحية الشرقية البحر الأحمر. () (المنيا ٢٠٢٣)

٤ اختر الإجابة الصحيحة مما بين القوسين:

- ١ - المصدر المعاصر للأحداث يُعد مصدرًا
(أولياً - ثانوياً - اقتصادياً - تعليمياً) (الجيزة ٢٠٢٣)
- ٢ - يمكنك تحديد موقع مكان ما على الطريق بواسطة
(GPS - الصحف - التلفزيون - الراديو) (القاهرة ٢٠٢٣)
- ٣ - يتوسط علم مصر ولونه أصفر ذهبي
(عصفور - تمساح - نسر - ثعبان) (بورسعيد ٢٠٢٣)

٥ أجب عما يأتي:

- ١ - وضح أهمية قناة السويس الجديدة. (الشرقية ٢٠٢٣)
- ٢ - اكتب تفسيرًا واحدًا لأهمية المصادر الأولية والثانوية. (الغربية ٢٠٢٣)





١ لاحظ الخريطة، ثم أجب:

- ١ - عاصمة مصر (سوهاج ٢٠٢٣)
- ٢ - يشير رقم (٢) إلى (البحيرة ٢٠٢٣)
- ٣ - لتحديد الاتجاهات نستخدم عنصر الخريطة رقم (الدقهلية ٢٠٢٣)

٢ أكمل العبارات الآتية بكلمات مناسبة:

- ١ - الكتب والموسوعات من المصادر (الغربية ٢٠٢٣)
- ٢ - يتم التقاط الصور الفضائية بواسطة (المنيا ٢٠٢٣)
- ٣ - يمكن معرفة المسافة الحقيقية بين مدينتين على الخريطة باستخدام (الشرقية ٢٠٢٣)

٣ اكتب كلمة (صواب) أمام العبارة الصحيحة، وكلمة (خطأ) أمام العبارة غير الصحيحة:

- ١ - تحتفل جميع محافظات مصر بعيد قومي واحد. (الفيوم ٢٠٢٣) ()
- ٢ - يمثل اليابس قارات العالم الجديد والقديم معًا. (أسوان ٢٠٢٣) ()
- ٣ - يجب عليك رفع علم بلدك عاليًا وعدم ملامسته للأرض. (أسيوط ٢٠٢٣) ()
- ٤ - " فازت مصر بالميدالية الذهبية في لعبة الكاراتيه ٢٠٢١م " تُعد العبارة رأيًا. (البحيرة ٢٠٢٣) ()

٤ اختر الإجابة الصحيحة مما بين القوسين:

- ١ - «مساحة واسعة من اليابس تضم عددًا من الدول» يناسب هذا التعريف (المحافظة - القارة - الدولة - المركز) (دمياط ٢٠٢٣)
- ٢ - تحتفل القاهرة بعيدها القومي في ذكرى (بناء الجامع الأزهر - حفر قناة السويس - جلاء الإنجليز - تأسيس مدينة القاهرة) (بورسعيد ٢٠٢٣)
- ٣ - يتخذ علم مصر شكل (دائرة - مثلث - مستطيل - مربع) (الغربية ٢٠٢٣)

٥ أجب عما يأتي:

- ١ - اكتب دليلًا واحدًا: مصر دولة بحرية. (الحيزة ٢٠٢٣)
- ٢ - اكتب سببًا لإنشاء العاصمة الإدارية الجديدة. (الإسكندرية ٢٠٢٣)



اختبارات سلاح التلميذ على شهر أكتوبر

يجيب عنها التلميذ

١٥

الاختبار الأول



خريطة جمهورية مصر العربية

١ لاحظ الخريطة، ثم أجب:

- ١ - يشير رقم (١) لإحدى محافظات الحدود الصحراوية
- ٢ - يشير رقم (٢) إلى البحر
- ٣ - صوب: عنصر الخريطة المفقود هو مقياس الرسم.

٢ أكمل العبارات الآتية بكلمات مناسبة:

- ١ - تُعد محافظة دمياط من محافظات الوجه
- ٢ - طريق تجاري كانت تقطعه السفن قديمًا للدوران حول قارة إفريقيا هو
- ٣ - كل ما تم تدوينه بعد مرور زمن طويل من وقوع الحدث يسمى

٣ اكتب كلمة (صواب) أمام العبارة الصحيحة، وكلمة (خطأ) أمام العبارة غير الصحيحة:

- ١ - الصور الجوية تغطي مساحات أكبر ومواقع أكثر من الصور الفضائية. ()
- ٢ - يرمز اللون الأحمر في علم مصر إلى ظلم الاستعمار. ()
- ٣ - الحدود التي تفصل محافظتي عن المحافظات المجاورة لها تسمى حدودًا إدارية. ()

٤ اختر الإجابة الصحيحة مما بين القوسين:

- ١ - تربط قناة السويس بين البحر الأحمر والبحر
- (الميت - الأسود - المتوسط - العربي)
- ٢ - حُفرت قناة سيزوستريس في عهد الملك
- (زوسر - مينا - رمسيس الثاني - سنوسرت الثالث)
- ٣ - «تقع مصر في قلب الوطن العربي» تعبر العبارة عن
- (حقيقة - ادعاء - رأي - خيال)
- ٤ - إذا أردت زيارة أكبر محافظات مصر مساحة فإنك تتجه لمحافظة
- (شمال سيناء - جنوب سيناء - الوادي الجديد - بني سويف)

٥ أجب عما يأتي:

- ١ - دلل على صحة العبارة: يرجع العيد القومي لمحافظة القاهرة إلى ذكرى تاريخية.
- ٢ - فسر: أهمية الخريطة للجيش.





١ لاحظ الخريطة، ثم صوب ما تحته خط:

- ١ - يشير رقم (١) إلى البحر الأحمر.
- ٢ - تقع المحافظة رقم (٢) في الوجه البحري.
- ٣ - يشير رقم (٣) إلى وِدة البوصلة.

٢ أكمل العبارات الآتية بكلمات مناسبة:

- ١ - تحتفل القاهرة بعيدها القومي في شهر
- ٢ - تقع مصر في الركن الشمالي الشرقي لقارة
- ٣ - «يتكون العالم من سبع قارات» تعبر هذه العبارة عن
- ٤ - لتخفيف الضغط السكاني قامت الدولة بإنشاء

٣ اكتب كلمة (صواب) أمام العبارة الصحيحة، وكلمة (خطأ) أمام العبارة غير الصحيحة:

- ١ - حُفرت قناة السويس بسواعد مصرية تحت إشراف مهندسين إنجليز. ()
- ٢ - تقع الكنيسة المعلقة في محافظة القاهرة. ()
- ٣ - تُرسم الخريطة بمجموعة من الرموز والألوان ومقياس رسم محدد. ()

٤ اختر الإجابة الصحيحة مما بين القوسين:

- ١ - المصدر الأولي الذي يخبرنا عن حفر قناة سيزوستريس
(النقوش - الكتب - المقالات - الأبحاث)
- ٢ - ملحن النشيد الوطني هو
(سيد درويش - محمد يونس القاضي - أحمد شوقي - مصطفى صادق الرافعي)
- ٣ - يعود النسب في علم مصر إلى القائد
(جوهر الصقلي - صلاح الدين الأيوبي - عمرو بن العاص - الظاهر بيبرس)

٥ أجب عما يأتي:

- ١ - صف شعار محافظتك.
- ٢ - فسر: وجود اللون الأبيض في علم مصر.



السؤال الأول أكمل العبارات التالية من بنك الكلمات:

(السلام - الوجه القبلي - الوثائق - الشمس الساطعة - الظلم)

١ أحد المصادر الثانوية التي يمكن الرجوع إليها للتأكد من صحة المعلومة

٢ يتكون شعار محافظة القاهرة من عدة رموز ومنها

٣ تعد محافظة أسوان إحدى محافظات

٤ يدل اللون الأبيض في علم مصر على

السؤال الثاني اكتب كلمة (صواب) أمام العبارة الصحيحة، وكلمة (خطأ) أمام العبارة غير الصحيحة:

١ الحدود التي تفصل بين محافظتي والمحافظات المجاورة تسمى حدودًا إدارية. ()

٢ تُعد مصر قلب الوطن العربي وملتقى الدول العربية في قارتي آسيا وإفريقيا. ()

٣ يسهل الحصول على المصادر الأولية. ()

السؤال الثالث اختر الإجابة الصحيحة مما بين القوسين:

١ تقع مصر في الركن الشمالي الشرقي من قارة

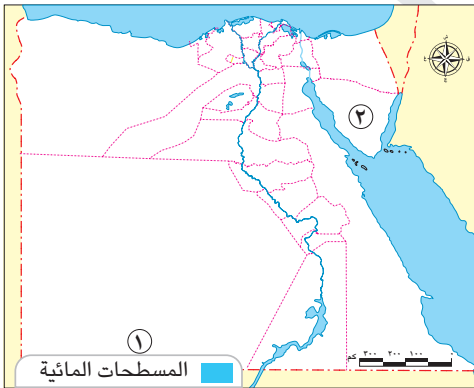
٢ القناة التي تُعد شريان التجارة العالمية والتي زادت من أهمية موقع مصر في العصر الحديث هي قناة

(سيزوستريس - بنما - السويس - جونجلي)

٣ "بنى الملك خفرع الهرم الأوسط" هذه العبارة تعبر عن

(رأي - خيال - حقيقة - ادعاء)

السؤال الرابع لاحظ الخريطة التالية، ثم أجب عما يلي:



١ أحد عناصر الخريطة وهو شبكة الإحداثيات. (صوب الخطأ).

٢ إحدى محافظات الحدود الصحراوية

السؤال الخامس أجب عن الأسئلة التالية:

١ فسر: تمتلك مصر موقعًا جغرافيًا متميزًا .

٢ اكتب نتيجة واحدة ترتبت على وجود عنوان لكل خريطة.



السؤال الأول أكمل العبارات الآتية من بنك الكلمات:



(منارة الإسلام - إفريقيا - السويس الجديدة - آسيا)

- ١ زادت أهمية موقع مصر بعد حفر قناة
- ٢ يدل شعار محافظ القاهرة على أنها
- ٣ يقع البحر المتوسط شمال قارة

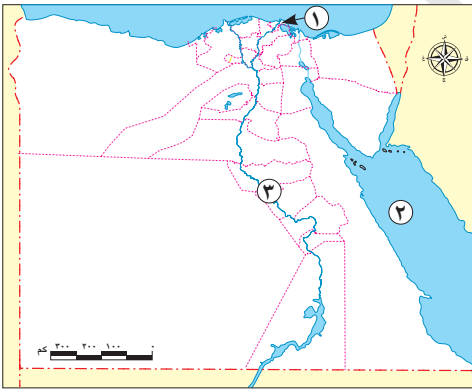
السؤال الثاني اكتب كلمة (صواب) أمام العبارة الصحيحة، وكلمة (خطأ) أمام العبارة غير الصحيحة:

- ١ القائد الذي وضع حجر الأساس لمدينة القاهرة عام ٩٦٩ م هو جوهر الصقلي. ()
- ٢ إذا أردت زيارة أكبر محافظات مصر فعليك التوجه إلى محافظة مطروح. ()
- ٣ القارة القطبية الجنوبية هي إحدى قارات العالم القديم. ()
- ٤ تتسم الحقائق بالدقة والموضوعية. ()

السؤال الثالث اختر الإجابة الصحيحة مما بين القوسين:

- ١ يُستخدم الرمز  على الخريطة في (قياس المسافات - فهم رموز الخريطة - تحديد الاتجاهات - معرفة موضوع الخريطة)
- ٢ يرجع العلم المقابل  إلى عهد (الخدوي إسماعيل - الملك فؤاد الأول - جمال عبد الناصر - محمد علي)
- ٣ (مساحة شاسعة من المياه المالحة ذات أعماق كبيرة) تنطبق هذه العبارة على (نهر النيل - البحر المتوسط - المحيط الهادي - بحيرة ناصر)

السؤال الرابع لاحظ الخريطة التالية، ثم أجب عما يلي:



- ١ أصغر محافظات مصر مساحة
- ٢ يشير رقم (٢) إلى البحر المتوسط. (صوب الخطأ)
- ٣ نهر

السؤال الخامس أجب عما يلي:

- ١ صنف المصادر التالية إلى مصادر أولية ومصادر ثانوية: (بردية إيبريس - بحث عن موقع مصر الجغرافي - صورة لافتتاح قناة السويس - موسوعة مصر الحديثة)
- ٢ اذكر اثنين من المواقع التي يُرفع علم مصر فوقها.



السؤال الأول أكمل العبارات الآتية من بنك الكلمات:

(دائرة الاستواء - قنا - مطروح - الأسود)

- ١ محافظة يحدها البحر المتوسط من الشمال والوادي الجديد من الجنوب هي
- ٢ أحد ألوان علم مصر يدل على الظلم في فترة الاستعمار
- ٣ دائرة العرض الرئيسية هي

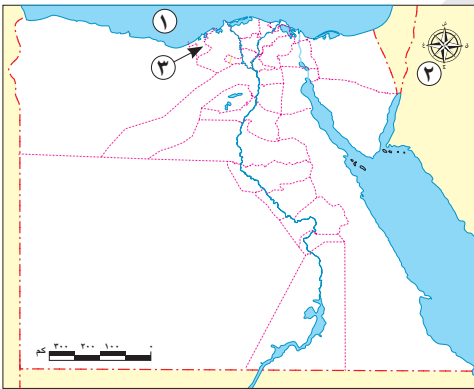
السؤال الثاني اكتب كلمة (صواب) أمام العبارة الصحيحة، وكلمة (خطأ) أمام العبارة غير الصحيحة:

- ١ تشترك عاصمة بلدنا مصر في حدودها الجنوبية مع محافظة الجيزة. ()
- ٢ الطائر الذي يتوسط علم مصر هو النسْر ويدل على قوة مصر وعراقة حضارتها. ()
- ٣ تستخدم الأقمار الصناعية في التقاط الصور الجوية. ()

السؤال الثالث اختر الإجابة الصحيحة مما بين القوسين:

- ١ محافظة تمثل نقطة التقاء الوجهين القبلي والبحري هي
- (الإسكندرية - الجيزة - القاهرة - الأقصر)
- ٢ يطلق على خطوط الطول ودوائر العرض اسم
- (شبكة الإحداثيات - مفتاح الخريطة - عنوان الخريطة - وردة البوصلة)
- ٣ علم مصر يكون على شكل
- (مربع - مستطيل - مثلث - دائرة)
- ٤ عند كتابتك بحثاً عن أهمية موقع مصر تستخدم أحد المصادر الثانوية وهو
- (الأفلام التسجيلية - البرديات - الوثائق الرسمية - الكتب)

السؤال الرابع لاحظ الخريطة التالية، ثم أجب عما يلي:



- ١ البحر
- ٢ أحد عناصر الخريطة
- ٣ إحدى محافظات الوجه البحري

السؤال الخامس أجب عما يلي:

- ١ دلل: ساعد نهر النيل على ازدهار الاقتصاد المصري منذ القدم.
- ٢ ما المقصود بالشعار؟



إجابة الاختبار ١

السؤال الأول:

١ الوثائق.

٣ الوجه القبلي.

السؤال الثاني:

١ صواب.

السؤال الثالث:

١ إفريقيا.

السؤال الرابع:

١ مفتاح الخريطة.

السؤال الخامس:

١ لأنها تقع بين قارات العالم القديم وتطل على البحر المتوسط من جهة الشمال، والبحر الأحمر من جهة الشرق

وربطها نهر النيل بدول وسط إفريقيا.

٢ التعرف على المعلومات الواردة في الخريطة.

إجابة الاختبار ٢

السؤال الأول:

١ السويس الجديدة.

السؤال الثاني:

١ صواب.

٣ خطأ.

السؤال الثالث:

١ تحديد الاتجاهات.

السؤال الرابع:

١ دمياط.

السؤال الخامس:

١ بردية إيبريس (مصدر أولي) - بحث عن موقع مصر الجغرافي (مصدر ثانوي) - صورة لافتتاح قناة السويس

(مصدر أولي) - موسوعة مصر الحديثة (مصدر ثانوي).

٢ المواقع السياحية - وسائل النقل الدولية كالتائرات والسفن.



إجابة الاختبار ٣

السؤال الأول:

- ١ مطروح. ٢ الأسود. ٣ دائرة الاستواء.

السؤال الثاني:

- ١ صواب. ٢ صواب. ٣ خطأ.

السؤال الثالث:

- ١ القاهرة. ٢ شبكة الإحداثيات. ٣ مستطيل. ٤ الكتب.

السؤال الرابع:

- ١ المتوسط. ٢ وردة البوصلة. ٣ الإسكندرية.

السؤال الخامس:

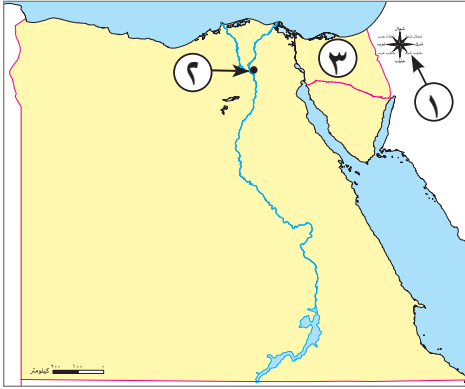
- ١ أدى إلى قيام الحضارة المصرية القديمة، حيث قامت على ضفتيه حرفة الزراعة ، كما استخدم كطريق للتجارة بين شمال مصر وجنوبها وبين مصر ودول وسط إفريقيا.
٢ راية تتخذها المحافظة رمزاً لها لتعبر عن نشاط سكانها أو جزء من تاريخها.



نموذج (١)

السؤال الأول

(١) لاحظ الخريطة، ثم أجب:



١ يشير رقم (١) إلى عنصر من عناصر الخريطة

٢ يشير رقم (٢) إلى العاصمة

٣ يشير رقم (٣) إلى إحدى محافظات الحدود

(ب) حدد سبباً واحداً ل:

١ أهمية الخريطة.

٢ أهمية قناة السويس.

السؤال الثاني

(١) اختر الإجابة الصحيحة مما بين القوسين:

١ المعلومات التي تم التأكد من صحتها هي

٢ يدل اللون في علم مصر على السلام.

٣ تحتفل العاصمة المصرية بعيدها القومي في ذكرى

(بناء مدينة القاهرة - بناء الجامع الأزهر - حفر قناة السويس - جلاء القوات الإنجليزية)

٤ تقع مصر في الركن من قارة إفريقيا.

(الشمالي الغربي - الشمالي الشرقي - الجنوبي الغربي - الشمالي)

(ب) اكتب ثلاثة أماكن ترى علم مصر يرفرف بها.

السؤال الثالث

اكتب كلمة (صواب) أمام العبارة الصحيحة، وكلمة (خطأ) أمام العبارة غير الصحيحة:

١ تمر السفن في الاتجاهين بقناة السويس بعد حفر قناة السويس الجديدة.

٢ يستخدم مقياس الرسم في تحديد الاتجاهات على الخريطة.

٣ يتخذ علم مصر شكل المستطيل.

٤ يرتبط العيد القومي للمحافظة بحدث تاريخي أو ذكرى مهمة.

٥ الصور الفضائية يتم التقاطها باستخدام الطائرات.

نموذج (٢)

السؤال الأول

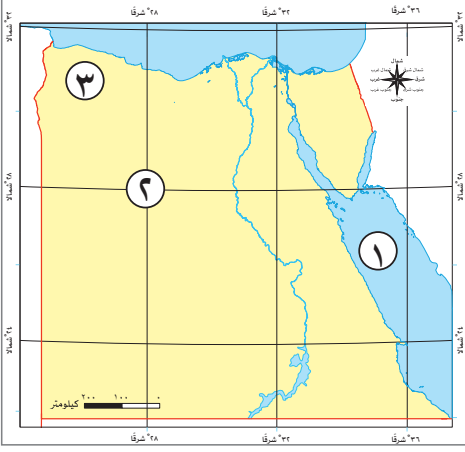
(١) أمامك خريطة لمصر، اكتب مدلول الأرقام التي عليها:

١ البحر.....

٢ أحد عناصر الخريطة.....

٣ إحدى محافظات الحدود الصحراوية.....

(ب) ١ دلل على: وجود مصادر أولية للمعلومات.



٢ فسر: قسمت مصر إلى محافظات.

السؤال الثاني

(١) أكمل العبارات الآتية:

١ البرديات المصرية القديمة تعد من المصادر.....

٢ أضاف نهر..... أهمية كبرى لموقع مصر.

٣ تعتبر محافظة أسوان من محافظات.....

(ب) اكتب ما تشير إليه العبارات الآتية:

١ مساحة واسعة من الماء المالح ذات أعماق كبيرة.

٢ مساحة من الأرض تضم مجموعة من المراكز أو الأحياء.

السؤال الثالث

(١) اختر الإجابة الصحيحة مما بين القوسين:

١ إذا أردت الذهاب إلى العاصمة الإدارية الجديدة لأول مرة يمكنك الوصول بسهولة باستخدام.....

(صورة جوية - صورة فضائية - نظام تحديد المواقع GPS - الرادار)

٢ قام بتأليف كلمات النشيد الوطني..... (أحمد شوقي - حافظ إبراهيم - محمد يونس - محمد عبد الوهاب)

٣ يتكون شعار محافظة القاهرة من عدة رموز، منها:.....

(جامع عمرو بن العاص - الجامع الأزهر الشريف - جامعة القاهرة - قلعة صلاح الدين)

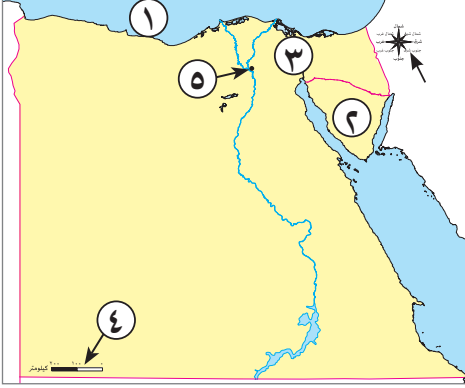
٤ الجهة التي تقع بين الجنوب والشرق هي جهة.....

(الشمال الشرقي - الشمال الغربي - الجنوب الشرقي - الجنوب الغربي)

(ب) ما النتائج المترتبة على: موقع مصر الجغرافي؟

نموذج (٣)

السؤال الأول



أمامك خريطة لمصر، ادرسها، ثم اكتب ما تشير إليه الأرقام:

- ١ البحر.....
- ٢ محافظة حدود.....
- ٣ قناة.....
- ٤ أحد عناصر الخريطة.....
- ٥ محافظة.....

السؤال الثاني

(١) اكتب كلمة (صواب) أمام العبارة الصحيحة، وكلمة (خطأ) أمام العبارة غير الصحيحة:

- ١ احترام علمنا واجب وطني؛ لأنه رمز الدولة. ()
- ٢ إذا أردت معرفة موقع مدينة القاهرة فإنك تنظر إلى الخريطة. ()
- ٣ أدى حفر قناة السويس الجديدة إلى زيادة زمن مرور السفن بالقناة. ()
- ٤ الكتب والموسوعات والمقالات من المصادر الأولية. ()

(ب) بم تفسر: تعد مصر دولة بحرية؟

السؤال الثالث

(١) أكمل العبارات الآتية:

- ١ الحدود التي تفصل المحافظات عن بعضها تسمى حدودًا.....
- ٢ رسم توضيحي لسطح الأرض أو جزء منه هو.....
- ٣ تربط قناة السويس بين البحر الأحمر و.....
- ٤ من العناصر الأساسية للخريطة ويستخدم لحساب المسافة بين المواقع.....

(ب) اكتب نتيجة ترتيبت على حفر قناة السويس.

نموذج (٤)

السؤال الأول

(أ) أكمل العبارات الآتية بما يناسبها من كلمات :

- ١ من العناصر الأساسية للخريطة وتوضح الاتجاهات الأصلية والفرعية
- ٢ يحد مصر من الشمال
- ٣ عاصمة جمهورية مصر العربية هي

(ب) قارن بين الحقيقة والرأى .

الرأى	الحقيقة
.....
.....
.....

السؤال الثانى

صوب ما تحته خط :

- ١ يساعد عنوان الخريطة على فهم الرموز والألوان.
- ٢ صورة لافتتاح قناة السويس في ١٤ نوفمبر ١٨٦٩ م، مصدر ثانوى.
- ٣ المحيط يمثل مساحة واسعة من اليابس تضم عددًا من الدول.
- ٤ قلعة صلاح الدين تقع في محافظة الجيزة.
- ٥ مرحلة النضال ودماء الشهداء يعبر عنها اللون الأبيض في العلم المصرى.

السؤال الثالث

(أ) اختر الإجابة الصحيحة مما بين القوسين :

- ١ شبكة تعد من العناصر الأساسية للخريطة وتستخدم في تحديد موقع المكان هي
(شبكة المثلثات - شبكة خطوط الطول ودوائر العرض - شبكة خطوط الطول فقط - شبكة دوائر العرض فقط)
- ٢ المصدر الأولى الذى يخبرنا عن حفر قناة سيزوستريس في العصر الفرعونى هو
(البرديات - الكتب - المقالات - الأبحاث)
- ٣ يتشابه كل من قناة السويس ونهر النيل فى أن لهما أهمية بالنسبة لمصر.
(صناعية - زراعية - تجارية - حضارية)
- ٤ عدد محافظات الحدود الصحراوية فى مصرمحافظات.
(ثلاث - أربع - خمس - سبع)

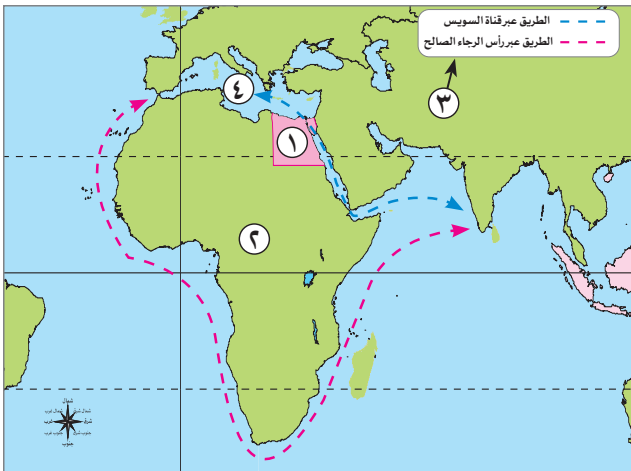
(ب) حدد سببًا واحدًا: لاختيار القاهرة عاصمة مصر فى عصور مختلفة على مر التاريخ.

نموذج (هـ)

السؤال الأول

(أ) اكتب مدلول الأرقام الموجودة على الخريطة :

- ١ دولة
- ٢ قارة
- ٣ عنصر من عناصر الخريطة
- ٤ البحر



(ب) اكتب اثنين من السلوكيات المعبرة عن احترامك لعلم مصر.

السؤال الثاني

اكتب كلمة (صواب) أمام العبارة الصحيحة، وكلمة (خطأ) أمام العبارة غير الصحيحة:

- ١ يدل النسرا الذي يتوسط علم مصر على القوة والشجاعة. ()
- ٢ تحتفل جميع محافظات مصر بعيد قومي واحد. ()
- ٣ محافظة البحر الأحمر محافظة حدودية. ()
- ٤ تقع مصر وسط قارات العالم الجديد. ()
- ٥ كتابات المؤرخين تعد من المصادر الثانوية. ()

السؤال الثالث

(أ) اختر الإجابة الصحيحة مما بين القوسين:

- ١ الحدود التي تفصل بين المحافظات هي الحدود (السياسية - الإدارية - البحرية - الجبلية)
- ٢ يحيط اليابس بمصر من جهتي (الشمال والغرب - الشرق والجنوب - الجنوب والغرب - الشمال والجنوب)
- ٣ النقوش والرسوم على توابيت الملوك الفرعونية من المصادر (الثانوية - الأولية - التقليدية - الشمالية)
- ٤ تلتقط الصور الجوية بواسطة (القطارات - السيارات - الطائرات - الدراجات)

(ب) ما العلاقة بين: موقع مصر وقارات العالم القديم؟

إجابة نموذج (١)

السؤال الأول

(أ)

- ١ ورده البوصلة.
- ٢ القاهرة.
- ٣ شمال سيناء.

(ب)

- ١ تستخدم في التعرف على الأماكن ومواقعها.
- ٢ تضاعفت أهمية موقع مصر بعد حفر قناة السويس - تقليص مدة الإبحار بين آسيا وأوروبا.

السؤال الثاني

(أ)

- ١ حقائق.
- ٢ الأبيض.
- ٣ بناء مدينة القاهرة.
- ٤ الشمالي الشرقي.

(ب) الوزارات، والهيئات، والمؤسسات الحكومية.

السؤال الثالث

- ١ (صواب)
- ٢ (خطأ)
- ٣ (صواب)
- ٤ (صواب)
- ٥ (خطأ)

إجابة نموذج (٢)

السؤال الأول

(أ)

- ١ الأحمر.
- ٢ شبكة خطوط الطول ودوائر العرض.
- ٣ مطروح.

(ب)

- ١ تتمثل في وجود : المخاطبات - الوثائق الرسمية - النقوش على القطع الأثرية أو المعابد والبرديات - كتابات المؤرخين - الصور والأفلام التسجيلية والمقالات التي عاصرت الحدث.
- ٢ بسبب اتساع مساحتها.

السؤال الثاني

(أ)

- ١ الأولية.
- ٢ النيل.
- ٣ الوجه القبلي.

(ب)

- ١ المحيط.
- ٢ المحافظة.

السؤال الثالث

(أ)

- ١ نظام تحديد المواقع GPS .
- ٢ محمد يونس .
- ٣ الجامع الأزهر الشريف .
- ٤ الجنوب الشرقي .

(ب) أدى إلى تسهيل الاتصال بجيرانها تجارياً وحضارياً.

إجابة نموذج (٣)

السؤال الأول

(أ)

- ١ المتوسط.
- ٢ جنوب سيناء.
- ٣ السويس.
- ٤ مقياس الرسم.
- ٥ القاهرة.

السؤال الثاني

- ١ (صواب)
- ٢ (صواب)
- ٣ (خطأ)
- ٤ (خطأ)

(ب) لأنها تطل على البحر المتوسط شمالاً والبحر الأحمر شرقاً.

السؤال الثالث

(أ)

- ١ إدارية.
- ٢ الخريطة.
- ٣ البحر المتوسط.
- ٤ مقياس الرسم.

(ب) تقليص مدة الإبحار بين آسيا وأوروبا - توفير الوقت والمال والجهد.

إجابة نموذج (٤)

السؤال الأول

(أ)

- ١ وردة البوصلة.
- ٢ البحر المتوسط والبحر الأحمر.
- ٣ القاهرة.

(ب)

الرأى	الحقيقة
تعبير عما يشعر به أو يفكر فيه شخص ما تجاه موضوع معين، وقد يكون صحيحًا أو خطأ.	معلومات أو أحداث تم إثبات صحتها والتأكد من دقتها، سواء من خلال البحث أو التجريب.

السؤال الثانى

- ١ مفتاح.
- ٢ أولى.
- ٣ القارة.
- ٤ القاهرة.
- ٥ الأحمر.

السؤال الثالث

(أ)

- ١ شبكة خطوط الطول ودوائر العرض.
- ٢ البرديات.
- ٣ تجارية.
- ٤ خمس.

(ب) بسبب: موقعها المتميز، فهي نقطة التقاء الوجه البحرى بالوجه القبلى.

إجابة نموذج (هـ)

السؤال الأول

(أ)

- ١ مصر.
- ٢ إفريقيا.
- ٣ مفتاح الخريطة.
- ٤ المتوسط.

(ب) عدم الكتابة أو الرسم عليه أو التسبب في ابتلاله بالماء.

السؤال الثاني

- ١ (صواب)
- ٢ (خطأ)
- ٣ (صواب)
- ٤ (خطأ)
- ٥ (خطأ)

السؤال الثالث

(أ)

- ١ الإدارية.
- ٢ الجنوب والغرب.
- ٣ الأولية.
- ٤ الطائرات.

(ب) تتوسط مصرقارات العالم القديم .

السؤال الأول: صوب ما تحته خط:

- ١- يمكن معرفة الاتجاهات الأصلية والفرعية عن طريق مفتاح الخريطة. (.....)
- ٢- لكل محافظة من محافظات مصر علم خاص. (.....)
- ٣- يتوسط علم مصر النجوم. (.....)
- ٤- اللون الأحمر في علم مصر يرمز لفترات الاستعمار. (.....)
- ٥- المصادر الثانوية تتميز بأنها معاصرة للأحداث. (.....)

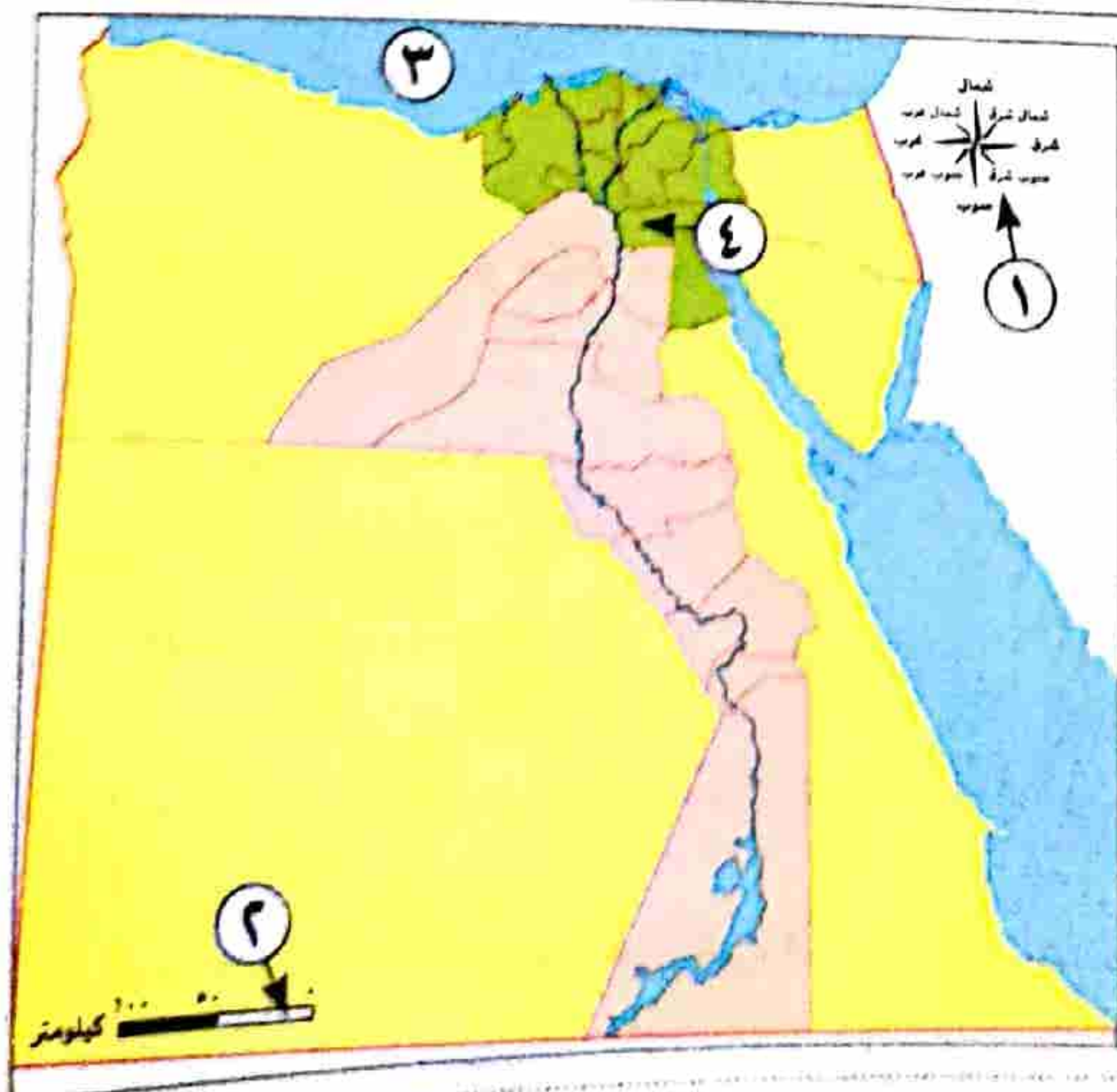
السؤال الثاني: (أ) اختر الإجابة الصحيحة مما يلي:

- ١- محافظة مطروح تقع في الجزء من مصر.
(الجنوبى الشرقى - الشمالى الشرقى - الجنوبى الغربى - الشمالى الغربى)
- ٢- البحر المتوسط يقع في جهة مصر.....
(الشمالية - الجنوبية - الشرقية - الغربية)
- ٣- زادت أهمية مصر الاقتصادية في العصر الحالى بعد حفر.....
(البحر المتوسط - نهر النيل - قناة السويس - قناة سيذوستريس)
- ٤- استعمرت إنجلترا مصر فترة من الزمن، وهذا يظهر في علم مصر من اللون.....
(الأبيض - الأسود - الأحمر - الأصفر)

(ب) صنف المصادر الآتية أيها مصادر أولية وأيها مصادر ثانوية فى الجدول التالى:

(الأفلام التسجيلية - المقالات - الأبحاث - الأهرامات)

مصادر أولية	مصادر ثانوية
.....
.....



السؤال الثالث: (أ) لاحظ الخريطة المقابلة، واكتب مدلول الأرقام عليها:

- ١- يشير (١) إلى.....
- ٢- يشير (٢) إلى.....
- ٣- يشير (٣) إلى.....
- ٤- يشير (٤) إلى.....

(ب) اشرح أهمية الخريطة بالنسبة للسياح.

١٥ : ١٤

١٣ : ١١

١٠ : ٨

٧ : ٥

ابحث وانكر

حل امتحانات أكثر

حل تدريبات أكثر

ذاكر شرح الدرس مرة أخرى

تابع مستواك


★★★★★





السؤال الأول: ضع دائرة حول الإجابة الصحيحة مما يلي:

- ١- اللون الأسود في علم مصريشير إلى فترات (الحرب - السلام - الاستعمار - القوة)
- ٢- محافظة الأقصر من محافظات (الوجه البحرى - الوجه القبلى - الساحل - الحدود)
- ٣- مصر ملتقى قارتين هما (آسيا وأوروبا - أوروبا وإفريقيا - إفريقيا وأستراليا - إفريقيا وآسيا)
- ٤- الصورة المقابلة تعد من المصادر
(الأولية - الثانوية - الثالثة - الرابعة)
- ٥- من المصادر الثانوية
(النقوش - المقالات - الوثائق - الخطابات)



السؤال الثانى: (أ) أكمل العبارات الآتية بالكلمات المناسبة:

- ١- من أدوات تحديد المواقع
- ٢- مساحة واسعة من اليابس تضم عددًا من الدول تعرف ب.....
- ٣- شعار المحافظة يعبر عن نشاط سكانها أو جزء من
- ٤- محافظة القاهرة تتوسط الموقع بين محافظات الوجهين البحرى و.....

(ب) حدد المختلف:

١- (أسيوط - سوهاج - البحيرة - قنا)

٢- (الكتب - البرديات - الموسوعات - الأبحاث)

السؤال الثالث: (أ) اكتب كلمة (صواب) أمام العبارة الصحيحة، وكلمة (خطأ) أمام العبارة غير الصحيحة

- ١- تعد محافظة الجيزة عاصمة مصر. (.....)
- ٢- المحيط هو مساحة واسعة من اليابس تضم عددًا من الدول بداخلها. (.....)
- ٣- قسمت مصر إلى محافظات لمساحتها الشاسعة. (.....)

(ب) فسر السبب:

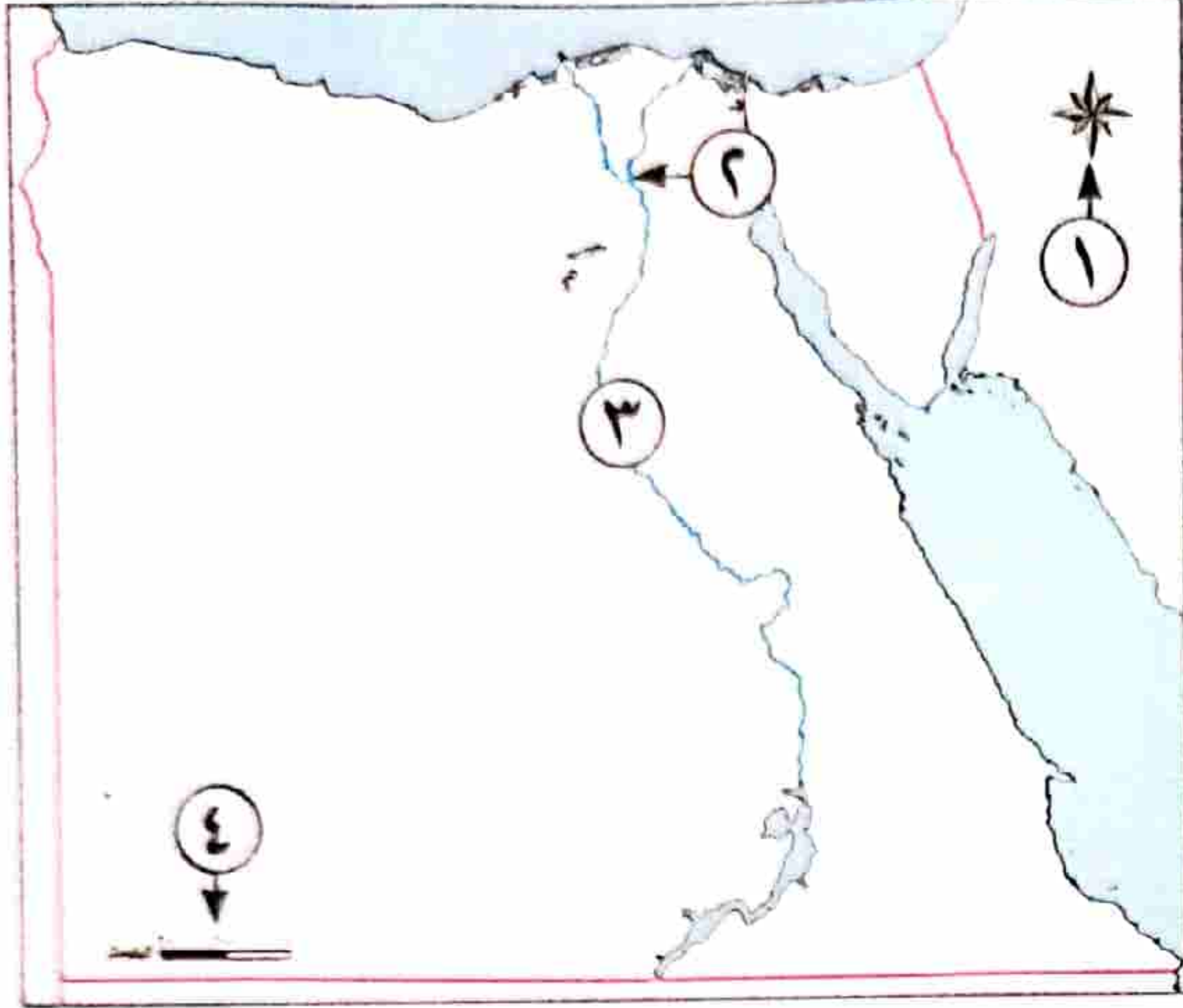
١- تقوم مصر حاليًا بإنشاء عاصمة إدارية جديدة

٢- حفر قناة السويس فى مصر





السؤال الأول: (أ) لاحظ الخريطة المقابلة، واكتب مدلول الأرقام عليها:



١- يشير رقم (١) إلى

٢- يشير رقم (٢) إلى محافظة

٣- يشير رقم (٣) إلى نهر

٤- يشير رقم (٤) إلى

(ب) دلل على صحة العبارة:

- يعد نظام تحديد المواقع العالمي (GPS) ذا استخدامات مهمة.

السؤال الثاني: (أ) اكتب كلمة (صواب) أمام العبارة الصحيحة، وكلمة (خطأ) أمام العبارة غير الصحيحة:

()

١- تستخدم الأقمار الصناعية في التقاط الصور الجوية.

()

٢- تقع محافظة أسوان ضمن محافظات الوجه القبلي.

()

٣- يعبر شعار محافظة القاهرة عن نشاط سكانها.

()

٤- تعد محافظة الإسكندرية من محافظات الوجه البحري.

(ب) فسر: أهمية نهر النيل لمصر قديماً .

السؤال الثالث: (أ) ضع دائرة حول الإجابة الصحيحة:

١- إفريقيا مساحة شاسعة من اليابس تضم عدة دول، فهي بذلك تكون

(دولة - محافظة - قارة - جزيرة)

٢- (مدينة شرم الشيخ أجمل المدن المصرية). تعبر هذه العبارة عن

(رأى - خيال - حقيقة - إشاعة)

٣- قامت الدولة ببناء العاصمة الإدارية الجديدة لتخفيف الضغط السكاني عن:

(الدقهلية - القاهرة - الإسكندرية - الجيزة)

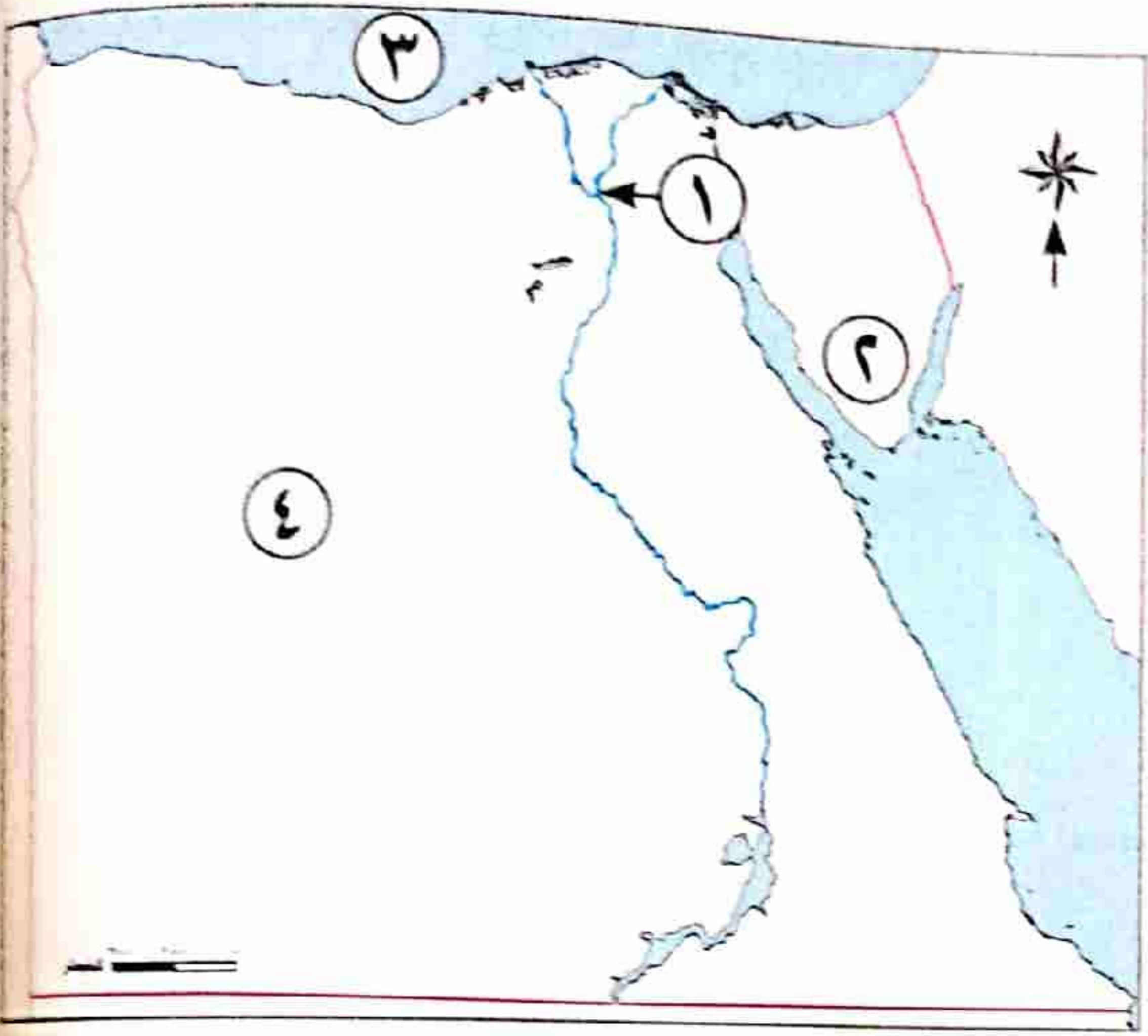
(ب) أجب عن السؤال الآتي:

- اكتب تفسيرًا واحدًا ل: وجود النسرفي علم مصر .





السؤال الأول: (أ) أمامك خريطة لمصر اكتب مدلول الأرقام عليها:



١- عاصمة مصر

٢- محافظة صحراوية

٣- البحر

٤- الصحراء

(ب) حدد:

- اثنين من مظاهر الاحتفال بالعيد القومي لمحافظةك.

السؤال الثاني: أكمل العبارات الآتية:

١- مقياس الرسم هو النسبة بين المسافة على الخريطة وما يقابلها على

٢- تتميز المصادر..... بأنها معاصرة للأحداث مثل الأفلام التسجيلية.

٣- طريق رأس الرجاء الصالح كانت تقطعه السفن حول قارة

٤- النسر الذي يتوسط علم مصر أخذ عن

٥- من مظاهر الاحتفال بالعيد القومي للمحافظة تجميل

السؤال الثالث: اكتب كلمة (صواب) أمام العبارة الصحيحة وكلمة (خطأ) أمام العبارة غير الصحيحة.

١- تستخدم شبكة خطوط الطول ودوائر العرض في تحديد موقع المكان. ()

٢- يتميز الرأي بالدقة والموضوعية ونادرًا ما يكون غير صحيح. ()

٣- نهر النيل أضاف أهمية كبرى لموقع مصر. ()

٤- الحدود الإدارية تفصل المحافظات المتجاورة عن بعضها. ()

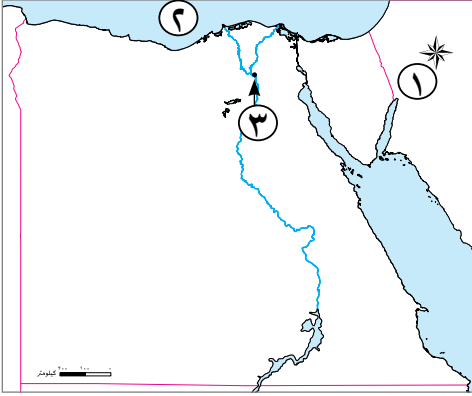
٥- محمد يونس القاضي لحن النشيد الوطني. ()



اختبارات 2023

نموذج (١)

السؤال الأول



(١) أمامك خريطة صماء لمصر، اكتب مدلول الأرقام عليها:

- ١ يشير رقم (١) إلى
- ٢ يشير رقم (٢) إلى البحر
- ٣ يشير رقم (٣) إلى محافظة

(ب) أجب عن السؤال الآتي:

- اكتب نتيجة واحدة ترتبت على: حفر قناة السويس الجديدة.

السؤال الثاني

- اكتب كلمة (صواب) أمام العبارة الصحيحة وكلمة (خطأ) أمام العبارة غير الصحيحة:

- ١ الخريطة هي رسم لجزء من الأرض باستخدام الرموز والألوان ومقياس رسم محدد. ()
- ٢ تعد الكتب والمقالات من المصادر الأولية. ()
- ٣ زادت أهمية موقع مصر الاقتصادي بعد حفر قناة السويس. ()
- ٤ الحدود الإدارية تفصل المحافظات المتجاورة عن بعضها. ()
- ٥ يدل اللون الأبيض في علم مصر على الظلم. ()

السؤال الثالث

- ضع خطاً تحت الإجابة الصحيحة فيما بين القوسين:

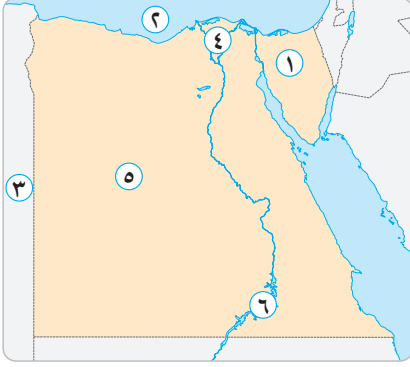
- ١ يتكون شعار محافظة القاهرة من عدة رموز، منها:
(جامع عمرو بن العاص - الجامع الأزهر الشريف - جامعة القاهرة - قلعة صلاح الدين)
- ٢ دائرة العرض الرئيسية هي دائرة
(الاستواء - السرطان - الجدي - الشمالية)
- ٣ المعلومات التي تم التأكد من صحتها هي
(حقائق - آراء - وجهات نظر - معتقدات)
- ٤ من المصادر الثانوية
(النقوش - المقالات - الوثائق - الخطابات)
- ٥ يستخدم الخريطة في تحديد ملكية الأراضي الزراعية.
(الساح - الضابط - الطالب - الفلاح)

امتحانات الشاطر على شهر أكتوبر

الامتحان الأول



السؤال الأول: (أ) أمامك خريطة صماء لمصر ، وضح مدلول الأرقام التي عليها :



- ١ - محافظة صحراوية
- ٢ - البحر
- ٣ - دولة
- ٤ - منطقة
- ٥ - الصحراء
- ٦ - بحيرة

(ب) اكتب كلمة (صح) أمام العبارة الصحيحة وكلمة (خطأ) أمام العبارة الخاطئة :

- ١ - أصغر المحافظات المصرية هي محافظة دمياط . ()
- ٢ - يجب أن يكون لكل خريطة مفتاح يدل على رموزها . ()
- ٣ - محافظتي من محافظات الوجه القبلي . ()
- ٤ - مصر نقطة التقاء بين قارتي إفريقيا وآسيا . ()
- ٥ - يحق لنا رسم شعار محافظتنا على علم مصر . ()

السؤال الثاني: (أ) بم تفسر ... ؟

- ١ - أهمية الخريطة لقبطان السفينة .

- ٢ - ضرورة احترام علم مصر .

- ٣ - إنشاء العاصمة الإدارية الجديدة .

(ب) أكمل العبارات الآتية بكلمات مناسبة :

- ١ - المعلومات التي تم التأكد من صحتها تعتبر
- ٢ - يدل اللون الأبيض في علم مصر على
- ٣ - « مدينة مرسى علم أجمل مدن مصر » .. هذه العبارة تعتبر
- ٤ - أمريكا الشمالية هي مساحة شاسعة من اليابس تضم عددًا من الدول لذلك فهي

السؤال الثالث: (أ) ما النتائج المترتبة على ... ؟

١ - حفر قناة السويس الجديدة .

.....

٢ - وجود نهر النيل على أرض مصر .

.....



(ب) أمامك شعار محافظة القاهرة :

١ - ما اسم الجامع الموجود به ؟

.....

٢ - لماذا نجد الشمس الساطعة خلف هذا الجامع ؟

.....

.....
٢٠

الامتحان الثاني

السؤال الأول: (أ) أمامك خريطة صماء لمصر ، وضح مدلول الأرقام التي عليها :



- ١ - أحد عناصر الخريطة
- ٢ - البحر
- ٣ - البحر
- ٤ - مدينة

(ب) صوب ما تحته خط :

- ١ - تسمى الخطوط الفاصلة بين المحافظات بالحدود السياسية .
(.....)
- ٢ - محافظة جنوب سيناء من محافظات الوجه القبلي .
(.....)
- ٣ - يحد القاهرة من الشرق محافظة الإسماعيلية .
(.....)

السؤال الثاني: (أ) اكتب كلمة (صح) أمام العبارة الصحيحة وكلمة (خطأ) أمام العبارة الخطأ:

- ١ - تستخدم الأقمار الصناعية في التقاط الصور الفضائية .
()
- ٢ - الكتب والموسوعات من المصادر الأولية .
()
- ٣ - أصبحت السفن تمر في الاتجاهين بعد حفر قناة السويس الجديدة .
()
- ٤ - تدل النجمتان في علم مصر عام ١٩٥٨ م على الوحدة بين مصر والسودان .
()

(ب) اذكر سببًا واحدًا لكل مما يلي :

- ١ - احتفال محافظة القاهرة بعيدها القومي يوم ٦ يوليو .
.....

- ٢ - وجود النسر وسط علم مصر .
.....

- ٣ - تقسيم مصر إلى محافظات .
.....

السؤال الثالث : (أ) اختر الإجابة الصحيحة من بين الإجابات الآتية :

١ - اللون الذي يدل - في عَلم مصر - على نضال الشعب المصري هو :

- أ الأبيض ب الأسود ج الأحمر د الذهبي

٢ - كتب كلمات النشيد الوطني المصري :

- أ محمد يونس القاضي ب سيد درويش ج مصطفى الرافعي د جمال حمدان

٣ - « مساحة شاسعة من الماء المالح ذات أعماق كبيرة » .. تنطبق هذه العبارة على :

- أ نهر النيل ب البحر الأحمر ج بحيرة ناصر د المحيط الهندي

٤ - علم مصر على شكل :

- أ دائرة ب مربع ج مستطيل د مثلث

(ب) اكتب نتيجة واحدة لكل مما يلي :

١ - وضع المادة رقم ٢٢٣ من الدستور المصري لعام ٢٠١٤ م .

٢ - وجود القاهرة عند التقاء محافظات الوجه البحري مع الوجه القبلي .

(ج) أجب عما يلي :

١ - قامت الحكومة المصرية بمحاولات عديدة لتطوير القاهرة .. وضح ذلك .

٢ - حدد الأماكن التي يمكنك رؤية العلم المصري مرفوعاً عليها .



الامتحان الثالث

السؤال الأول: (أ) أمامك خريطة صماء لمصر ، وضح مدلول الأرقام التي عليها :



- ١ - الحد الشمالي لمصر.....
- ٢ - أهم ممر ملاحى.....
- ٣ - خليج.....
- ٤ - الصحراء.....

(ب) بم تفسر ... ؟

- ١ - أهمية وردة البوصلة على الخريطة .

- ٢ - ضرورة الاعتماد على الحقائق في اتخاذ القرارات .

- ٣ - إنشاء العاصمة الإدارية الجديدة .

- ٤ - أهمية وجود علم لكل دولة .

السؤال الثاني: (أ) اختر الإجابة الصحيحة من بين الإجابات الآتية :

- ١ - أحد ألوان علم مصر ويدل على الظلم في فترة الاستعمار :

أ الأبيض ب الأسود ج الأصفر د الأحمر

- ٢ - تتركز معظم الوزارات في محافظة :

أ الإسكندرية ب القاهرة ج أسوان د السويس

- ٣ - عدد محافظات شبه جزيرة سيناء :

أ ثلاث ب أربع ج اثنتان د خمس

- ٤ - يتكون العالم من قارات .

أ عشر ب خمس ج سبع د ست

(ب) دلل على :

١ - ساعد نهر النيل على ازدهار الاقتصاد المصري منذ القدم .

.....

٢ - هناك أوجه تشابه واختلاف بين المصادر الأولية والمصادر الثانوية .

.....

السؤال الثالث : (أ) أكمل العبارات الآتية بكلمات مناسبة :

١ - إذا أردنا حساب المسافة بين محافظتي الفيوم والقاهرة فإننا نستعين ب.....

٢ - جهة الشمال الشرقي يقابلها جهة.....

٣ - لمعرفة مدلول الألوان والرموز على الخريطة فإننا ننظر إلى.....

٤ - « بنى الملك خضوع الهرم الأوسط » .. هذه العبارة تعبر عن.....

٥ - قارة..... من قارات العالم الجديد .

(ب) ضع دائرة حول الكلمة التي لا تنتمي للمجموعة :

١ - آسيا - إفريقيا - أمريكا الجنوبية - أوربا .

٢ - الهادي - الهندي - الأطنطي - نهر النيل .

(ج) اذكر بعض المعالم الأثرية الهامة في محافظة القاهرة .

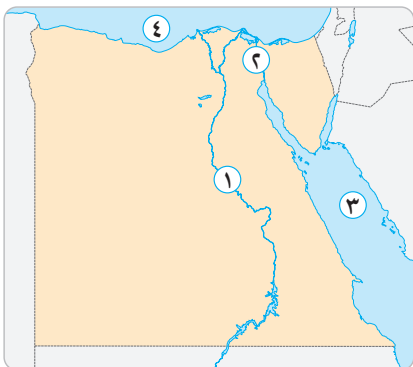
.....

.....

.....
٢٠

الامتحان الرابع

السؤال الأول: (أ) أمامك خريطة صماء لمصر ، وضح مدلول الأرقام التي عليها :



- ١ - يشير رقم ١ على الخريطة إلى نهر
- ٢ - يشير رقم ٢ على الخريطة إلى قناة
- ٣ - يشير رقم ٣ على الخريطة إلى البحر
- ٤ - يشير رقم ٤ على الخريطة إلى البحر

(ب) اذكر سببًا واحدًا لكل مما يلي :

١ - أهمية الخريطة للجيش .

٢ - أهمية قناة السويس .

٣ - ضرورة احترام علم مصر .

السؤال الثاني: (أ) أجب عن الأسئلة التالية :

١ - اكتب اثنين من السلوكيات المعبرة عن احترامك لعلم مصر .

٢ - اكتب اثنين من مظاهر احتفال محافظتك بعيدها القومي .

(ب) أكمل العبارات الآتية بكلمات مناسبة :

١ - زادت أهمية موقع مصر بعد حفر

٢ - محافظة الأقصر من محافظات الوجه

٣ - محافظة يحدها البحر المتوسط من الشمال والوادي الجديد من الجنوب هي

٤ - الذي قام بتلحين النشيد الوطني لمصر « بلادي بلادي » هو

٥ - يمكنني تحديد موقع مدرستك من خلال نظام

السؤال الثالث: (أ) صوب ما تحته خط :

- ١ - الأبحاث التاريخية من المصادر الأولية . (.....)
- ٢ - ساعد نهر النيل على زيادة التجارة بين مصر ودول وسط أوروبا . (.....)
- ٣ - تضم مصر ٢٥ محافظة . (.....)
- ٤ - اللون الذي يدل على السلام في علم مصر هو اللون الأحمر . (.....)

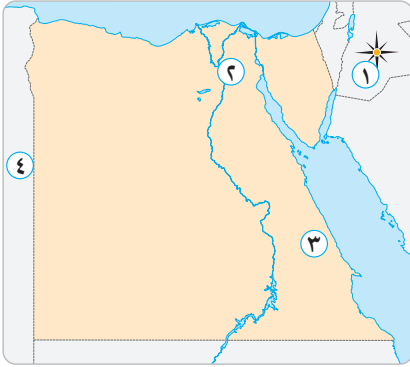
(ب) اكتب كلمة (صح) أمام العبارة الصحيحة وكلمة (خطأ) أمام العبارة الخاطئة :

- ١ - تستخدم الأقمار الصناعية لالتقاط الصور الجوية لسطح الأرض . ()
- ٢ - « تقع مصر في قارة إفريقيا » .. تعبر هذه العبارة عن وجهة نظر . ()
- ٣ - كتاب « مصر الحديثة » يعتبر أحد المصادر الأولية للحصول على المعلومات . ()
- ٤ - المحيط الأطلسي يمثل مساحة شاسعة من الماء المالح قليلة العمق . ()

الامتحان الخامس

٢٠

السؤال الأول: (أ) أمامك خريطة صماء لمصر ، وضح مدلول الأرقام التي عليها :



- ١ - يشير رقم ١ إلى أحد عناصر الخريطة
- ٢ - يشير رقم ٢ إلى عاصمة مصر
- ٣ - يشير رقم ٣ إلى محافظة صحراوية
- ٤ - يشير رقم ٤ إلى دولة تحد مصر من جهة الغرب

(ب) اختر الإجابة الصحيحة من بين الإجابات الآتية :

- ١ - يمكنك معرفة المسافة بين مدينتين على الخريطة باستخدام :
 - أ مقياس الرسم
 - ب مفتاح الخريطة
 - ج وردة البوصلة
 - د عنوان الخريطة
- ٢ - « مدينة أسوان أجمل مدن مصر » .. تعبر هذه العبارة عن :
 - أ رأي
 - ب خيال
 - ج حقيقة
 - د اقتراح
- ٣ - القناة التي تعد شريان التجارة العالمية وتربط البحرين الأحمر بالمتوسط بشكل مباشر هي :
 - أ بنما
 - ب سيزوستريس
 - ج السويس
 - د جونجلي
- ٤ - تقع مصر في ملتقى قارتين هما :
 - أ إفريقيا وأمريكا الشمالية
 - ب إفريقيا وأوروبا
 - ج إفريقيا وآسيا
 - د آسيا وأوروبا
- ٥ - إذا أردت التوجه إلى معظم الوزارات فعليك التوجه إلى محافظة :
 - أ القاهرة
 - ب المنيا
 - ج الوادي الجديد
 - د الإسكندرية

السؤال الثاني: (أ) ضع دائرة حول الكلمة التي لا تنتمي للمجموعة :

- ١ - شمال سيناء - جنوب سيناء - أسيوط - مرسى مطروح .
- ٢ - أحمر - أبيض - أزرق - أسود .
- ٣ - مفتاح الخريطة - عنوان الخريطة - شبكة الإحداثيات - لون الخريطة .

(ب) أجب عما يلي :

١ - حدد سبب احتفال كل محافظة بعيد قومي خاص بها .

.....

٢ - اذكر الفرق بين قناة السويس وقناة سيزوستريس .

.....

٣ - ما سبب وجود اللون الأبيض في علم مصر .

.....

السؤال الثالث : (أ) اكتب كلمة (صح) أمام العبارة الصحيحة وكلمة (خطأ) أمام العبارة الخطأ :

١ - إذا أردت رسم خريطة تفصيلية لجزء من سطح الأرض فإنك تعتمد على الصور الجوية . ()

٢ - يجب علينا تحري دقة المعلومات قبل نشرها . ()

٣ - ترتب على حفر قناة السويس الجديدة زيادة زمن مرور السفن في القناة . ()

٤ - تقع محافظة القاهرة ضمن محافظات الوجه البحري . ()

٥ - اتخذ علم مصر شكلاً واحداً على مر العصور . ()

(ب) دلل على صحة العبارتين الآتيتين :

١ - مصر دولة بحرية .

.....

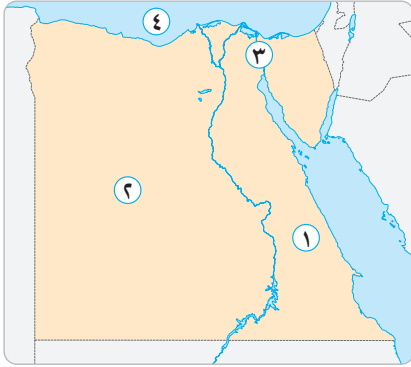
٢ - اهتمام الحكومة المصرية بتقليل التكدس السكاني في محافظة القاهرة .

.....

الامتحان السادس

٢٠

السؤال الأول: (أ) أمامك خريطة صماء لمصر ، وضح مدلول الأرقام التي عليها :



- ١ - الصحراء
- ٢ - الصحراء
- ٣ - قناة
- ٤ - البحر

(ب) اكتب كلمة (صح) أمام العبارة الصحيحة وكلمة (خطأ)

أمام العبارة الخطأ :

- ١ - النقوش على جدران المعابد والوثائق الرسمية من المصادر الأولية . ()
- ٢ - تقع مصر شمال شرق آسيا . ()
- ٣ - يبلغ عدد محافظات الحدود خمس محافظات . ()
- ٤ - علم الدولة هو رمز لتاريخها وتراثها . ()
- ٥ - تحتفل جميع محافظات مصر بعيد قومي واحد . ()

السؤال الثاني: (أ) اكتب ما تشير إليه العبارات التالية :

- ١ - راية تتخذها المحافظة شعارًا لها . (.....)
- ٢ - عاصمة جديدة تم إنشاؤها لتقليل الضغط السكاني وتكديس الخدمات في القاهرة . (.....)
- ٣ - رسم توضيحي لسطح الأرض باستخدام مجموعة من الرموز والألوان . (.....)

(ب) اختر الإجابة الصحيحة من بين الإجابات الآتية :

- ١ - أي من العناصر التالية يستخدم عند رسم البحر الأحمر في ورقة صغيرة؟
 أ) مفتاح الخريطة ب) مقياس الرسم ج) عنوان الخريطة د) وردة البوصلة
- ٢ - عند التقاط صورة حقيقية تفصيلية لجزء من سطح الأرض فإننا نستخدم:
 أ) الطائرات ب) القمر الصناعي ج) الصاروخ د) سفينة الفضاء
- ٣ - المعلومات التي تم التأكد من صحتها هي :
 أ) حقائق ب) آراء ج) خيال د) معتقدات

٤ - يحيط اليابس بمصر من جهتي :

أ الشمال والغرب ب الشرق والجنوب ج الجنوب والغرب د الشمال والجنوب

٥ - قارة..... من قارات العالم الجديد .

أ أوروبا ب أمريكا الشمالية ج آسيا د إفريقيا

السؤال الثالث : أجب عما يلي :

١ - اكتب نتيجة واحدة مترتبة على حفر قناة السويس الجديدة .

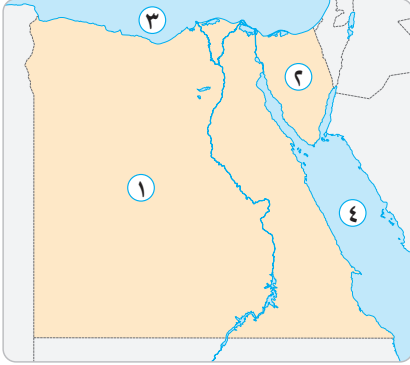
٢ - اكتب تفسيراً لوجود اللون الأحمر في علم مصر بمعظم مراحل تطوره .

٣ - حدد سبب اتخاذ كل محافظة شعاراً لها .

.....
٢٠

الامتحان السابع

السؤال الأول: (أ) أمامك خريطة صماء لمصر ، وضح مدلول الأرقام التي عليها :



- ١ - يشير رقم (.....) على الخريطة إلى البحر المتوسط .
- ٢ - يشير رقم (.....) على الخريطة إلى الصحراء الغربية .
- ٣ - يشير رقم (.....) على الخريطة إلى شبه جزيرة سيناء .
- ٤ - يشير رقم (.....) على الخريطة إلى البحر الأحمر .

(ب) أجب عما يلي :

- ١ - سبب اتخاذ كل محافظة شعارًا لها .

.....

- ٢ - تقسيم مصر إلى عدد من المحافظات .

.....

- ٣ - اذكر سبب أهمية قناة السويس .

.....

السؤال الثاني: (أ) اكتب كلمة (صح) أمام العبارة الصحيحة وكلمة (خطأ) أمام العبارة الخطأ:

- ١ - يمكنك معرفة موقع مدينة القاهرة على الخريطة باستخدام مقياس الرسم . ()
- ٢ - تمتلك مصر العديد من الموارد الطبيعية المتجددة هذه العبارة تعبر عن حقيقة . ()
- ٣ - الاستعانة بالنقوش على جدران معبد الأقصر لكتابة بحث يعد مصدرًا أوليًا . ()
- ٤ - زادت أهمية موقع مصر في العصر الحديث بعد حفر قناة سيزوستريس . ()
- ٥ - محافظة البحر الأحمر من محافظات الحدود الصحراوية . ()

(ب) اختر الإجابة الصحيحة من بين الإجابات الآتية :

- ١ - يدل النسب وسط علم مصر على :

أ الضعف ب الثورة ج اليأس د القوة

- ٢ - « مدينة شرم الشيخ أجمل المدن المصرية » .. هذه العبارة تعبر عن :

أ حقيقة ب رأي ج خيال د اعتقاد

٣ - البحر الأحمر يحد مصر من جهة :

- أ الشمال ب الغرب ج الشرق د الجنوب

٤ - أوروبا مساحة شاسعة من اليابس تضم عددًا من الدول لذلك فهي :

- أ محافظة ب دولة ج قارة د محيط

٥ - محافظتي من محافظات :

- أ الوجه القبلي ب الوجه البحري ج الحدود د القطب الشمالي

السؤال الثالث : (أ) أكمل العبارات الآتية بكلمات مناسبة :

١ - الذي قام بتلحين النشيد الوطني لمصر « بلادي بلادي » هو

٢ - يعبر شعار المحافظة عن

٣ - استخدم المصريون قديمًا كطريق للتجارة بين شمال مصر وجنوبها .

٤ - سمحت مصر بمرور السفن التجارية في الاتجاهين بعد حفر

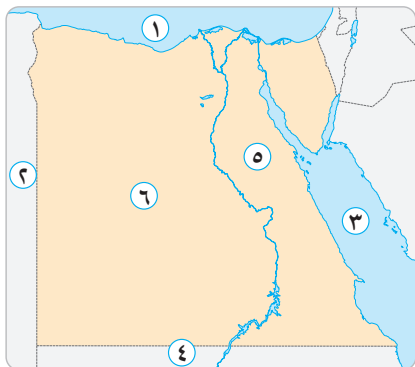
(ب) ما أوجه الشبه والاختلاف بين ... ؟

- المصادر الأولية والمصادر الثانوية .

الامتحان الثامن

.....
٢٠

السؤال الأول: (أ) أمامك خريطة صماء لمصر ، وضح مدلول الأرقام التي عليها :



- ١ - رقم (.....) يمثل البحر الأحمر .
- ٢ - رقم (.....) يمثل الحدود مع ليبيا .
- ٣ - رقم (.....) يمثل الصحراء الغربية .
- ٤ - رقم (.....) يمثل الصحراء الشرقية .
- ٥ - رقم (.....) يمثل الحدود مع السودان .
- ٦ - رقم (.....) يمثل البحر المتوسط .

(ب) اكتب كلمة (صح) أمام العبارة الصحيحة وكلمة (خطأ) أمام العبارة الخاطئة :

- ١ - تساعد وردة البوصلة على تحديد موقع مكان ما بالنسبة للأماكن الأخرى على الخريطة . ()
- ٢ - لعب نهر النيل دورًا في التواصل التجاري بين مصر ووسط إفريقيا . ()
- ٣ - يتكون علم مصر من أربعة ألوان . ()
- ٤ - لكل محافظة عيد قومي تحتفل فيه بذكرى تاريخية أو حدث مهم . ()
- ٥ - المحافظة مساحة من الياض تضم مجموعة من الدول . ()

السؤال الثاني: (أ) بم تفسر ... ؟

- ١ - أهمية موقع مصر الجغرافي .

.....

- ٢ - أهمية شخصية محمد يونس القاضي .

.....

- ٣ - وجود اللون الأحمر في علم كينيا .

.....

(ب) ما العلاقة بين ... ؟

- ١ - الأقمار الصناعية والصور الفضائية .

.....

- ٢ - القائد جوهر الصقلي ومدينة القاهرة .

.....

السؤال الثالث : (أ) أكمل العبارات الآتية بكلمات مناسبة :

- ١ - أمر الملك بحفر قناة سيزوستريس .
- ٢ - لكل محافظة شعار يعبر عن و
- ٣ - يساعد على فهم وقراءة الخريطة .
- ٤ - اليبس يحد مصر من جهتي و
- ٥ - أكبر محافظات مصر مساحة محافظة وأصغرها محافظة

(ب) ما النتائج المترتبة على ... ؟

- ١ - افتتاح قناة السويس الجديدة .

.....

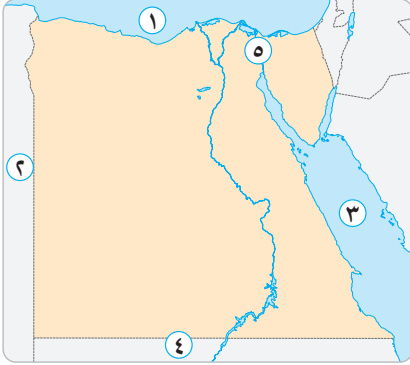
- ٢ - القيام بالتصوير الجوي .

.....

.....
٢٠

الامتحان التاسع

السؤال الأول: (أ) أمامك خريطة صماء لمصر ، وضح مدلول الأرقام التي عليها :



- ١ - رقم (.....) يمثل أهم ممر ملاحى فى العالم .
- ٢ - رقم (.....) يمثل حدود مصر الجنوبية .
- ٣ - رقم (.....) يمثل حدود مصر الغربية .
- ٤ - رقم (.....) يمثل البحر المتوسط .
- ٥ - رقم (.....) يمثل البحر الأحمر .

(ب) أجب عن الأسئلة التالية :

- ١ - بم تفسر : أهمية الخريطة للفلاح ؟

.....

- ٢ - ما النتائج المترتبة على : وجود عنوان الخريطة ؟

.....

- ٣ - كيف يمكنك تقييم المعلومات التي تجدها فى كتاب ما ؟

.....

- ٤ - ما العلاقة بين : موقع مصر الجغرافى والاقتصاد المصرى ؟

.....

السؤال الثانى: (أ) ضع دائرة حول الكلمة التي لا تنتمى للمجموعة :

- ١ - أمريكا الشمالية - أمريكا الجنوبية - أوروبا - أستراليا .
- ٢ - البحر المتوسط - السودان - ليبيا - نهر النيل .
- ٣ - الوادى الجديد - البحر الأحمر - شمال سيناء - القاهرة .

(ب) اكتب كلمة (صح) أمام العبارة الصحيحة وكلمة (خطأ) أمام العبارة الخاطئة :

- ١ - أوروبا مساحة شاسعة من اليابس تضم عددًا من الدول لذلك فهي قارة . ()
- ٢ - أشاد الدكتور جمال حمدان بأهمية موقع مصر الجغرافى . ()
- ٣ - تعتبر لوحة الملك نارمر من المصادر الثانوية . ()

- ٤ - يقابل جهة الجنوب الغربي الجنوب الشرقي . ()
- ٥ - تشترك عاصمة بلدنا مصر في حدودها الجنوبية مع محافظة الجيزة . ()
- ٦ - يدل اللون الأبيض في علم بلدنا على الظلم . ()

السؤال الثالث : أكمل العبارات الآتية بكلمات مناسبة :

- ١ - يتوسط علم مصر نسر لونه.....
- ٢ - من أهم مشروعات تطوير العاصمة مشروع..... و.....
- ٣ - محافظة الأقصر من محافظات الوجه.....
- ٤ - يتكون العالم من..... محيطات و..... قارات .
- ٥ - تعد مصر حلقة الاتصال بين أقطار الوطن.....

الامتحان العاشر

٢٠

السؤال الأول: (أ) اختر الإجابة الصحيحة من بين الإجابات الآتية :

١ - « بلغ عدد سكان مصر ٩٤ مليون نسمة عام ٢٠١٧ م » .. تعبر هذه العبارة عن :

أ رأي ب حقيقة ج خيال د ادعاء

٢ - الجهة التي تقع بين الشمال والشرق هي :

أ الشمال الغربي ب الجنوب الشرقي ج الشمال الشرقي د الجنوب الغربي

٣ - إذا أردت كتابة بحث عن أهمية موقع مصر الجغرافي فإنك تستعين بأحد مؤلفات :

أ طه حسين ب جمال حمدان ج سعد زغلول د سيد درويش

٤ - « مساحة من اليابس تضم مجموعة من المراكز أو الأحياء » .. تنطبق هذه العبارة على :

أ مصر ب القاهرة ج أوروبا د آسيا

٥ - علم مصر سنة ١٩٥٨ م كان يضم نجمتين ترمزان إلى الوحدة بين مصر و :

أ ليبيا ب السودان ج سوريا د السعودية

(ب) أجب عن الأسئلة التالية :

١ - هناك فرق بين الصور الجوية والصور الفضائية .. دلت .

.....

٢ - كيف تقيم المعلومات التي تجدها في كتاب ما ؟

.....

٣ - قارن بين الرأي والحقيقة من حيث التعريف .

.....

٤ - اذكر أوجه الشبه والاختلاف بين المصادر الأولية والمصادر الثانوية .

.....

السؤال الثاني: (أ) اكتب كلمة (صح) أمام العبارة الصحيحة وكلمة (خطأ) أمام العبارة الخطأ:

١ - تعد قناة السويس هي مركز النقل الأول للغرب . ()

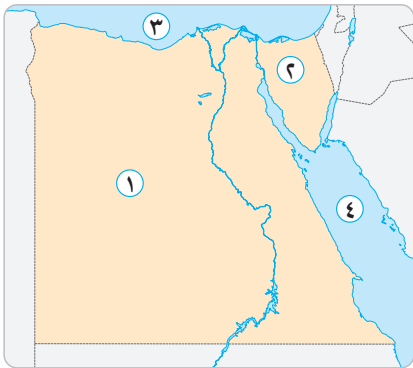
٢ - أصغر محافظات مصر مساحة محافظة الوادي الجديد . ()

- ٣ - الكتابة بالألوان على العلم سلوك جيد . ()
- ٤ - تحتفل محافظة القاهرة بعيدها القومي بمناسبة وضع حجر الأساس لبناء مدينة القاهرة . ()
- ٥ - الصورة هي رسم توضيحي لسطح الأرض باستخدام مجموعة من الرموز والألوان . ()

(ب) أكمل العبارات الآتية بكلمات مناسبة :

- ١ - كل ما تم تدوينه وقت وقوع الحدث يسمى بينما ما تم تدوينه بعد عدة سنوات يسمى
- ٢ - كانت قناة سيزوستريس تربط بين البحر الأحمر والمتوسط عن طريق
- ٣ - يحد البحر الأحمر مصر من جهة
- ٤ - يساعد على تحديد مواقع الأماكن والوصول إليها باستخدام الأقمار الصناعية .

السؤال الثالث : أمامك خريطة صماء لمصر ، وضع مدلول الأرقام التي عليها :



- ١ - الصحراء
- ٢ - شبه جزيرة
- ٣ - البحر
- ٤ - البحر

الإجابات الاسترشادية على امتحانات الشاطر على شهر أكتوبر

(ب)

- ١ - إدارية
٢ - الحدود
٣ - السويس

السؤال الثاني: (أ)

- ١ - صح
٢ - خطأ
٣ - صح
٤ - خطأ

(ب)

- ١ - لأنه اليوم الذي وضع فيه جوهر الصقلي حجر الأساس لمدينة القاهرة .
٢ - ليرمز إلى قوة مصر وعراقتها .
٣ - بسبب اتساع مساحة مصر .

السؤال الثالث: (أ)

- ١ - الأحمر
٢ - محمد يونس القاضي
٣ - المحيط الهندي
٤ - مستطيل

(ب)

- ١ - أدى ذلك إلى أن أصبح إهانة العلم المصري جريمة يعاقب عليها القانون .
٢ - أصبحت عاصمة لمصر على مر العصور .

(ج)

- ١ - أنشأت الدولة مشروع حي الأسمرات وحي السيدة زينب ومشروع محور روض الفرج .
٢ - المواقع السياحية .
الوزارات والهيئات .
المؤسسات الحكومية .
وسائل النقل .

الامتحان الثالث

السؤال الأول: (أ)

- ١ - البحر المتوسط
٢ - قناة السويس
٣ - العقبة
٤ - الغربية

(ب)

- ١ - تساعد على تحديد موقع مكان ما بالنسبة للأماكن الأخرى على الخريطة .

الامتحان الأول

السؤال الأول: (أ)

- ١ - شمال سيناء
٢ - المتوسط
٣ - ليبيا
٤ - الدلتا
٥ - الغربية
٦ - ناصر

(ب)

- ١ - صح
٢ - صح
٣ - الإجابة على حسب محافظتك
٤ - صح
٥ - خطأ

السؤال الثاني: (أ)

- ١ - يستخدمها في تحديد المواقع .
٢ - لأنه رمز من رموز الدولة .
٣ - لتخفيف الضغط السكاني في محافظة القاهرة .

(ب)

- ١ - حقائق
٢ - السلام
٣ - رأى
٤ - قارة

السؤال الثالث: (أ)

- ١ - تقليل زمن عبور السفن في القناة .
عبور سفن أكبر حجماً وحمولة .
عبور السفن في الاتجاهين .
٢ - عاش المصريون القدماء على ضفافه وتعلموا الزراعة فكان سبباً في قيام الحضارة المصرية القديمة .

(ب)

- ١ - الجامع الأزهر .
٢ - لتدل على أن الأزهر الشريف هو منارة الإسلام في العالم أجمع .

الامتحان الثاني

السؤال الأول: (أ)

- ١ - وردة البوصلة
٢ - المتوسط
٣ - الأحمر
٤ - القاهرة

٢ - لأنها معلومات ثبتت صحتها ودقتها ونادرًا ما تكون خطأ .

٣ - لتخفيف الضغط السكاني في محافظة القاهرة .

٤ - لأنه رمز للدولة .

• السؤال الثاني : (أ)

١ - الأسود ٢ - القاهرة

٣ - اثنتان ٤ - سبع

(ب)

١ - حيث عاش المصريون القدماء على ضفافه وتعلموا الزراعة واستخدموه كحلقة اتصال بين شمال مصر وجنوبها وبين مصر ووسط إفريقيا .

- ٢

المصادر الأولية	المصادر الثانوية
يمكن الحصول منهما على المعلومات .	الشبه
أكثر دقة لأنها كتبت وقت وقوع الحدث .	الاختلاف
أقل دقة لأنها كتبت بعد مرور عدة سنوات .	

• السؤال الثالث : (أ)

١ - مقياس الرسم ٢ - جنوب غربي

٣ - مفتاح الخريطة ٤ - حقيقة

٥ - أستراليا أو أمريكا الشمالية أو أمريكا الجنوبية

(ب)

١ - أمريكا الجنوبية ٢ - نهر النيل

(ج) ■ جامع عمرو بن العاص . ■ الكنيسة المعلقة .

■ قلعة صلاح الدين الأيوبي .

الامتحان الرابع

• السؤال الأول : (أ)

١ - النيل ٢ - السويس

٣ - الأحمر ٤ - المتوسط

(ب)

١ - تساعد على الوصول للمواقع الحربية .

٢ - وفرت الوقت والجهد والمال وقللت مدة الإبحار بين آسيا وأوروبا عكس طريق رأس الرجاء الصالح .

٣ - لأنه رمز من رموز الدولة .

• السؤال الثاني : (أ)

١ - ■ أقف أمامه باحترام . ■ لا ندعه يلمس الأرض .

■ لا نمزقه ولا نحرقه .

٢ - ■ تزيين الشوارع والبيادين .

■ إقامة المهرجانات والاحتفالات .

■ افتتاح المحافظ مشروعات جديدة لخدمة أبناء

المحافظة .

(ب)

١ - قناة السويس ٢ - القبلي

٣ - مرسى مطروح ٤ - سيد درويش ٥ - GPS

• السؤال الثالث : (أ)

١ - الثانوية ٢ - إفريقيا

٣ - ٢٧ ٤ - الأبيض

(ب)

١ - خطأ ٢ - خطأ

٣ - خطأ ٤ - خطأ

الامتحان الخامس

• السؤال الأول : (أ)

١ - وردة البوصلة ٢ - القاهرة

٣ - البحر الأحمر ٤ - ليبيا

(ب)

١ - مقياس الرسم ٢ - رأي

٣ - السويس ٤ - إفريقيا وآسيا

٥ - القاهرة

• السؤال الثاني : (أ)

١ - أسيوط ٢ - أزرق

٣ - لون الخريطة

(ب)

١ - للاحتفال بحدث تاريخي أو ذكرى مهمة .

٢ - تربط قناة السويس بين البحرين الأحمر والمتوسط

بشكل مباشر ، لكن سيزوستريس تربط البحر الأحمر

بالنيل ثم بالبحر المتوسط .

٣ - ليدل على السلام .

الامتحان السابع

السؤال الأول: (أ)

- ٣ - ١ ٢ - ١ ٣ - ٣ ٤ - ٤

(ب)

- ١ - ليرمز إلى تاريخها ونشاط سكانها .
٢ - بسبب اتساع مساحة مصر .
٣ - وفرت الوقت والجهد والمال .
٤ - قللت من زمن الإبحار بين آسيا وأوروبا .

السؤال الثاني: (أ)

- ١ - خطأ ٢ - صح ٣ - صح
٤ - خطأ ٥ - صح

(ب)

- ١ - القوة ٢ - رأي ٣ - الشرق
٤ - قارة ٥ - اختيار المحافظة التابع لها .

السؤال الثالث: (أ)

- ١ - سيد درويش
٢ - نشاط سكانها جزء من تاريخها
٣ - نهر النيل ٤ - قناة السويس الجديدة

(ب)

المصادر الأولية	المصادر الثانوية
يمكن الحصول منهما على المعلومات .	الشبه
أكثر دقة لأنها كتبت وقت وقوع الحدث .	الاختلاف
أقل دقة لأنها كتبت بعد مرور عدة سنوات .	

الامتحان الثامن

السؤال الأول: (أ)

- ٣ - ١ ٢ - ٢ ٣ - ٣
٤ - ٤ ٥ - ٤ ٦ - ١

(ب)

- ١ - صح ٢ - صح ٣ - خطأ
٤ - صح ٥ - خطأ

السؤال الثاني: (أ)

- ١ - لأنها تطل على بحرين الأحمر والمتوسط .
٢ - تقع في ملتقى ثلاث قارات آسيا وأوروبا وإفريقيا .
٣ - زادت أهميتها بعد حفر قناة السويس .

السؤال الثالث: (أ)

- ١ - صح ٢ - صح
٣ - خطأ ٤ - صح
٥ - خطأ

(ب)

- ١ - حيث تحدها البحار من جهتي الشمال (البحر المتوسط) والشرق (البحر الأحمر) .
٢ - حيث قامت بإنشاء العاصمة الإدارية الجديدة .

الامتحان السادس

السؤال الأول: (أ)

- ١ - الشرقية ٢ - الغربية
٣ - السويس ٤ - المتوسط

(ب)

- ١ - مفتاح الخريطة . عنوان الخريطة .
٢ - مقياس الرسم . شبكة الإحداثيات .
٣ - وردة البوصلة .
٤ - يستخدمها التلميذ في المذاكرة وقائد السفينة والطائرة لتحديد المواقع ، والجيش للوصول للأماكن الحربية .

السؤال الثاني: (أ)

- ١ - صح ٢ - خطأ
٣ - صح ٤ - صح ٥ - خطأ

(ب)

- ١ - الشعار ٢ - العاصمة الإدارية الجديدة
٣ - الخريطة

السؤال الثالث: (أ)

- ١ - مقياس الرسم ٢ - الطائرات
٣ - حقائق ٤ - الجنوب والغرب
٥ - أمريكا الشمالية

(ب)

- ١ - ساعدت على عبور السفن في الاتجاهين ، وعبور سفن أكبر حجمًا وحمولة .
٢ - ليدل على دماء الشهداء التي أريقت من أجل الحرية .
٣ - ليرمز إلى تاريخها ونشاط سكانها .

- ٢ - تأليف النشيد الوطني « بلادي بلادي » .
٣ - ليدل على النضال ودماء الشهداء .

(ب)

- ١ - حيث إن الصور الفضائية يتم التقاطها بواسطة الأقمار الصناعية .
٢ - حيث يعتبر جوهر الصقلي هو واضح حجر الأساس لمدينة القاهرة .

السؤال الثالث : (أ)

- ١ - سنوسرت الثالث ٢ - تاريخها ونشاط سكانها
٣ - مفتاح الخريطة ٤ - الجنوب والغرب
٥ - الوادي الجديد / دمياط

(ب)

- ١ - نتج عن ذلك :

- عبور سفن أكبر حجمًا وحمولة .
- عبور السفن في الاتجاهين .

- تقليل مدة الإبحار في القناة من ٢٠ إلى ١١ ساعة فقط .

- ٢ - أدى ذلك إلى الحصول على الصور الجوية التي تساعد على رسم خرائط دقيقة ومفصلة لسطح الأرض .

الامتحان التاسع

السؤال الأول : (أ)

- ١ - ٥ ٢ - ٤ ٣ - ٢ ٤ - ١ ٥ - ٣

(ب)

- ١ - يستخدمها في تحديد ملكية الأرض الزراعية .
٢ - لأنه يشير إلى المعلومات الواردة على الخريطة .
٣ - من خلال معرفة اسم المؤلف وتخصصه ومعرفة مكانته العلمية ، وهل كان موجودًا وقت وقوع الحدث أم لا .
٤ - حيث إن موقع مصر الجغرافي المتميز ووجودها وسط قارات العالم القديم ووجود قناة السويس ساعد على ازدهار الاقتصاد المصري .

السؤال الثاني : (أ)

- ١ - أوروبا ٢ - نهر النيل ٣ - القاهرة

(ب)

- ١ - صح ٢ - صح ٣ - خطأ
٤ - خطأ ٥ - صح ٦ - خطأ

السؤال الثالث :

- ١ - أصفر ذهبي
٢ - محور روض الفرج / روضة السيدة زينب
٣ - القبلي ٤ - خمسة / سبع
٥ - العربي

الامتحان العاشر

السؤال الأول : (أ)

- ١ - حقيقة ٢ - الشمال الشرقي
٣ - جمال حمدان ٤ - القاهرة ٥ - سوريا

(ب)

١ -

تلتقط بواسطة الطائرات وتساعد على رسم خرائط أكثر دقة ووضوحًا .	العلمية
تلتقط بواسطة الأقمار الصناعية وتعطينا صورًا لمواقع أكبر على سطح الأرض ، لأن الأقمار الصناعية تستطيع الدوران حول الكرة الأرضية .	العلمية

- ٢ - من خلال معرفة اسم المؤلف وتخصصه ومعرفة مكانته العلمية .

٣ -

الرأي	تعبير عما يشعر به أو يفكر فيه شخص ما وقد يكون صحيحًا أو خطأ .
الحقيقة	هي معلومات تم إثبات صحتها ونادرًا ما تكون غير صحيحة .

- ٤ - سبقت إجابته .

السؤال الثاني : (أ)

- ١ - صح ٢ - خطأ ٣ - خطأ
٤ - صح ٥ - خطأ

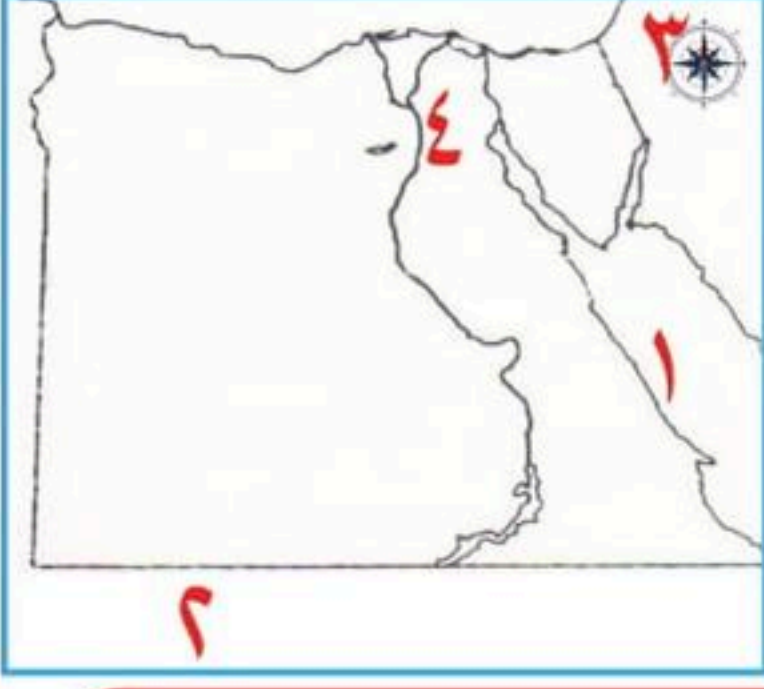
(ب)

- ١ - مصدر أولي / مصدر ثانوي ٢ - نهر النيل
٣ - الشرق ٤ - GPS

السؤال الثالث :

- ١ - الغربية ٢ - سيناء
٣ - المتوسط ٤ - الأحمر

1 أمامك خريطة صماء لمصر وضح مدلول الأرقام الموقعة عليها:



- 1 البحر
- 2 حدود مصر الجنوبية دولة
- 3 عنصر من عناصر الخريطة
- 4 محافظة

2 أكمل العبارات الآتية بكلمات مناسبة:

- 1 زادت أهمية موقع مصر بعد حضر
- 2 تنقسم مصادر جمع المعلومات إلى مصادر ،
- 3 يستخدم الفلاح الخريطة في تحديد
- 4 إذا أردت تحديد موقعك بدقة فإنك تستخدم
- 5 الفترة التي استعمرت فرنسا فيها مصر تظهر على العَلَم في اللون

3 اكتب كلمة (صواب) أمام العبارة الصحيحة وكلمة (خطأ) أمام العبارة الغير صحيحة:

- 1 كل ماتم تدوينه من أشخاص عاصروا الحدث تُسمى مصادر ثانوية (.....)
- 2 عندما تجتمع خطوط الطول ودوائر العرض تكون شبكة الإحداثيات (.....)
- 3 يتكون العالم من سبع قارات وثلاث محيطات (.....)
- 4 يرمز النسرفي علم مصر إلى القوة (.....)
- 5 إذا أردت الانتقال من محافظة أسوان إلى الأقصر فإنك تتجه ناحية الجنوب (.....)

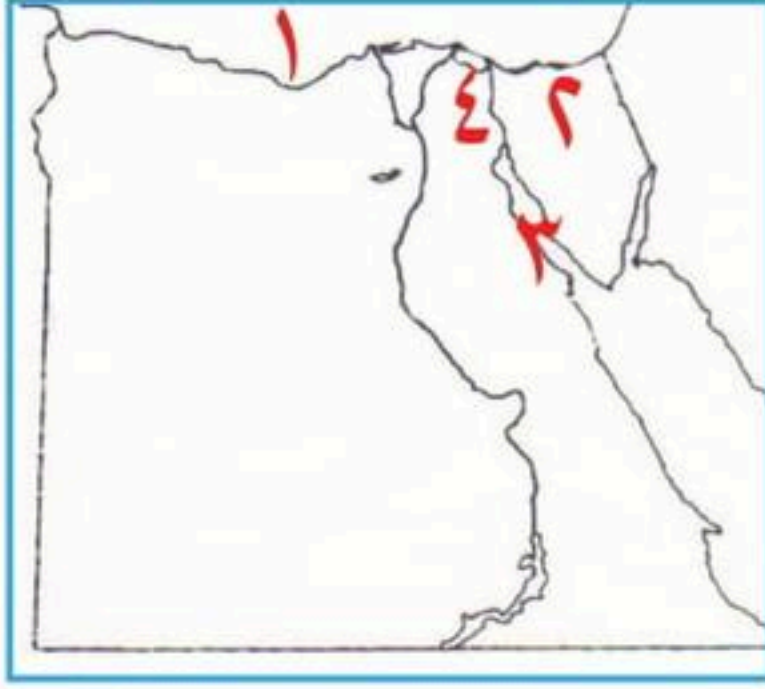
4 أجب عن الأسئلة الآتية:

- 1 ما علاقه بين الصور الفضائية ونظام تحديد المواقع Gps؟
- 2 فسر سبب اختيار يوم السادس من يوليو عيداً قومياً لمحافظة القاهرة؟
- 3 اذكر سبباً واحداً لاستخدام مقياس الرسم؟

5 اختر الإجابة الصحيحة مما بين القوسين:

- 1 معلومات تعبر عن وجهة نظرنا تُسمى (رأي - حقيقة - نصيحة - خبر)
- 2 تعد من المصادر الثانوية (كتاب عن موقع مصر الجغرافي - فيلم تسجيلي عن قناة السويس - خطاب الرئيس أنور السادات - نقوش المصريين القدماء)
- 3 رسم توضيحي لسطح الأرض وله مقياس محدد (الصورة - الخريطة - الأقمار الصناعية - Gps)
- 4 تعد من قارات العالم القديم (أمريكا الشمالية - أستراليا - أمريكا الجنوبية - آسيا)

1 أمامك خريطة صماء لمصر وضح مدلول الأرقام الموقعة عليها:



- 1 يشير رقم (1) إلى البحر
- 2 يشير رقم (2) إلى محافظة حدود وهي
- 3 يشير رقم (3) إلى خليج
- 4 يشير رقم (4) إلى ممر ملاحى عالمى

2 صوب ماتحته خط:

- 1 مساحة واسعة من المياه المالحة تطلق على القارة
- 2 يشير اللون الأسود في علم مصر إلى دماء الشهداء
- 3 طريق ملاحى قديم يدور حول إفريقيا يُعرف بـ قناة السويس
- 4 راية تتخذها كل محافظة لتعبر عن تاريخها العلم

3 اختر الإجابة الصحيحة مما بين القوسين:



- 1 أي الصور تعبر عن مدلول الألوان على الخريطة
- 2 طريق تجارى ربط بين شمال وجنوب مصر
- (البحر الأحمر- نهر النيل - البحر المتوسط - قناة السويس)
- 3 معلومات أو أحداث تم إثبات صحتها (الحقيقة- الرأي- الصور الفضائية- المصادر الأولية)
- 4 يُستخدم لنقل البضائع ويدور حول قارة إفريقيا
- (قناة السويس- طريق رأس الرجاء الصالح- باب المندب- بنما)
- 5 خط وهمى يُرسم بشكل طولي على الخريطة (جرينتش- الاستواء- الجدي- السرطان)

4 أجب عن الأسئلة الآتية:

حدد أوجه التشابه والاختلاف بين كل من الحقيقة والرأي؟

وجه المقارنة	الحقيقة	الرأي
التشابه		
الاختلاف		

- ما المقصود بالشعار؟

- لماذا تحرص الدولة على وجود علماء خاصًا بها؟ موضحًا سبب تغير علم مصر خلال فترات مختلفة

من التاريخ؟

لماذا يستخدم الجيش الخريطة؟

اختبار (2)

1

1 البحر المتوسط 2 محافظة شمال سيناء

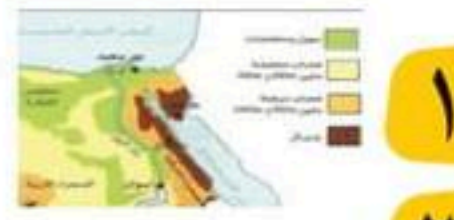
3 خليج السويس 4 قناة السويس

2

1 المحيط 2 الظلم والاستعمار

3 طريق رأس الرجاء الصالح 4 الشعار

3



1 2 نهر النيل

3 الحقيقة 4 طريق رأس الرجاء الصالح

5 جرينتش

4

- التشابه

كلاهما مصادر تميز للمعلومات الأولية والثانوية

- الاختلاف

الحقيقة: تتميز بالدقة والموضوعية ونادراً ما تكون غير صحيحة

الرأي: من الممكن أن يكون غير صحيح لذلك يجب التأكد منه

- ما المقصود بالشعار؟

رايه تتخذها المحافظة رمزاً لها ليعبر عن نشاط سكانها أو جزء من تاريخها

- لماذا تحرص الدولة على وجود علماء خاص بها؟

موضحاً سبب تغير علم مصر خلال فترات مختلفه من التاريخ؟

لأنه رمزي يحمل معاني تعبر عن تاريخ الدولة

سبب تغير العلم: لأن العلم يتغير مع اختلاف الأحداث التاريخية التي تمر بها البلد

- لماذا يستخدم الجيش الخريطة؟

لتحديد مواقع الأماكن الحربية

اختبار (1)

1

1 البحر الأحمر 2 السودان

3 البوصلة 4 القاهرة

2

1 قناة السويس 2 أولية ، ثانوية

3 ملكية الأراضي الزراعية 4 الخريطة

5 الأسود

3

1 خطأ 2 صواب

3 خطأ 4 صواب

5 خطأ

4

1 يقوم نظام تحديد المواقع بتحديد الاتجاهات والمواقع

والأماكن عن طريق استخدام صور الأقمار الصناعية

2 لأنه رمز لليوم الذي قام فيه القائد جوهر الصقلي بوضع

حجر الأساس لمدينة القاهرة

3 لأنه يوضح النسبة بين المسافة على الخريطة وما

يقابلها على الطبيعة

5

1 رأي 2 كتاب عن موقع مصر الجغرافي

3 الخريطة 4 آسيا



على الوحدة الأولى



اختبارات

الاختبار الأول



س ١ لاحظ خريطة مصر المقابلة، ثم أجب عن التالي:

١ وضح العنصر الذي تستخدمه لتحديد موقع مدينة

الإسكندرية بالنسبة لمدينة مطروح

٢ ما الذي يربط بين البحرين الأحمر والمتوسط؟

٣ وضح موقع مدينة شرم الشيخ بالنسبة لمدينة أسيوط.

٤ وضح حدود مصر البحرية.

س ٢ أكمل العبارات التالية بالإجابة الصحيحة:

١ نحدد اتجاهنا الصحيح على الخريطة من خلال

٢ ما يتم تدوينه بعد مرور زمن طويل من وقوع الحدث يسمى

٣ تعد محافظة المنيا من محافظات

س ٣ ضع علامة (✓) أمام العبارة الصحيحة وعلامة (X) أمام العبارة غير الصحيحة:

١ يقع كل اتجاه فرعي بين اتجاهين أصليين. ()

٢ تتشابه المصادر الأولية والمصادر الثانوية في أنهما مصدران لتوثيق

المعلومات والأحداث. ()

٣ يعبر شعار محافظة القاهرة عن نشاط سكانها. ()

س ٤ اختر الإجابة الصحيحة من بين القوسين:

١ يحدد موقع المكان شرق وغرب العالم:

(مقياس الرسم - مفتاح الخريطة - خط الاستواء - خط جرينتش)

٢ معبد الملكة حتشبسوت يعد: (مصدرًا ثانويًا - رأيًا - مقترحًا - مصدرًا أوليًا)

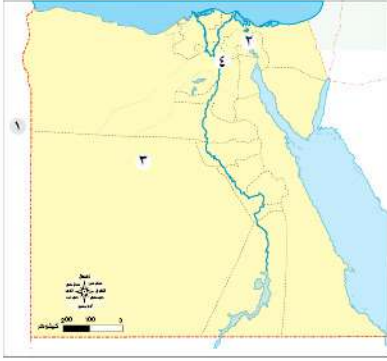
٣ للتحرك من مدينة القاهرة إلى السويس نسلك اتجاه: (الشمال - الجنوب - الشرق - الغرب)

س ٥ أجب عما يلي:

١ فسر سبب ذلك: الصورة الجوية تساعدنا في رسم خرائط أكثر دقة وتفصيلاً من الصور الفضائية.

٢ بماذا تنصح زميلك الذي رسم نجومًا على علم مصر؟

الاختبار الثاني



س ١ لاحظ خريطة مصر المقابلة، ثم أجب عن التالي:

- ١ دولة تقع على الجانب الغربي لمصر
- ٢ شريان الاقتصاد العالمي
- ٣ محافظة صحراوية
- ٤ محافظة تربط بين الوجه البحري والوجه القبلي

س ٢ أكمل العبارات التالية بالإجابة الصحيحة:

- ١ تعد قارة أمريكا الشمالية إحدى قارات العالم
- ٢ يتخذ علم مصر شكل
- ٣ ساعد على قيام الحضارة المصرية القديمة.

س ٣ ضع علامة (✓) أمام العبارة الصحيحة وعلامة (X) أمام العبارة غير الصحيحة:

- ١ يبلغ عدد محافظات الحدود تسع محافظات. ()
- ٢ يتكون شعار محافظتك من الجامع الأزهر وشمس ساطعة. ()
- ٣ يحيط الماء بمصر من ثلاث جهات. ()

س ٤ اختر الإجابة الصحيحة من بين القوسين:

- ١ مساحة من الماء المالح ذات أعماق كبيرة: (البحر - النهر - المحيط - الخليج)
- ٢ لحنّ النشيد الوطني الحالي: (سيد درويش - عمار الشريعي - محمد يونس القاضي - مصطفى الرافي)
- ٣ الحد الفاصل بين المحافظات يسمى حدًا: (بحريًا - نهريًا - إداريًا - دوليًا)

س ٥ أجب عما يلي:

- ١ ماذا يحدث إذا لم نعرف استخدام البوصلة؟
- ٢ لماذا يوجد اختلاف بين الحقيقة والرأي؟

الاختبار الثالث



س ١ لاحظ خريطة مصر المقابلة، ثم أجب عن التالي:

- ١ حدد موقع مرسى مطروح بالنسبة لمدينة القاهرة
- ٢ العنصر المفقود في الخريطة هو
- ٣ الدوائر السوداء على الخريطة توضح

س ٢ أكمل العبارات التالية بالإجابة الصحيحة:

- ١ يحدد قائد الجيش مواقع العدو باستخدام
- ٢ قام القائد بوضع حجر الأساس لبناء مدينة القاهرة.
- ٣ يعد رمزاً من رموز الدولة وكتبه الشيخ محمد يونس القاضي.

س ٣ ضع علامة (✓) أمام العبارة الصحيحة وعلامة (X) أمام العبارة غير الصحيحة:

- ١ قارة إفريقيا تقع جنوب قارة أوروبا. ()
- ٢ يقتصر رفع علم مصر على الوزارات والشركات الحكومية. ()
- ٣ يحيط الماء بمصر من جهتي الشمال والغرب. ()

س ٤ اختر الإجابة الصحيحة من بين القوسين:

- ١ تعد من المصادر الأولية.
- ٢ (بحث علمي - كتاب قناة السويس - مذكرات الملك فاروق - موسوعة) يساعدا في معرفة ما تحتويه الخريطة من بيانات:
- ٣ (مفتاح الخريطة - مقياس الرسم - وردة البوصلة - عنوان الخريطة) كل اسم على الخريطة يقابله ١ كم على طبيعته تعبر هذه الجملة عن
- ٣ (مفتاح الخريطة - مقياس الرسم - وردة البوصلة - عنوان الخريطة)

س ٥ ما وجه التشابه بين كل من...؟

- ١ علم مصر والنشيد الوطني.
- ٢ مقبرة توت عنخ آمون وبردية إيبريس في الطب.
- ٣ محافظة البحيرة ومحافظة الإسكندرية.

الاختبار الرابع

س ١ لاحظ خريطة العالم المقابلة، ثم أجب عن التالي:



- ١ قارة
- ٢ المحيط
- ٣ دولة

س ٢ أكمل العبارات التالية بالإجابة الصحيحة:

- ١ أشاد الجغرافي المصري بأهمية موقع مصر الجغرافي.
- ٢ تعد محافظتي من محافظات
- ٣ اللون الأبيض في علم لبنان يرمز إلى
- ٤ نستخدم لحساب المسافة بين المواقع.

س ٣ ضع علامة (✓) أمام العبارة الصحيحة وعلامة (X) أمام العبارة غير الصحيحة:

- ١ محافظة الإسماعيلية هي أكبر المحافظات المصرية مساحة. ()
- ٢ زادت أهمية موقع مصر في العصر الحديث بعد حفر قناة سيزوستريس. ()
- ٣ لعب نهر النيل دوراً مهماً في مصر. يعتبر هذا رأياً. ()

س ٤ اختر الإجابة الصحيحة من بين القوسين:

- ١ نستطيع من خلاله معرفة ما تحتوي الخريطة من معلومات: (البوصلة - عنوان الخريطة - دليل الرموز والألوان - مقياس الرسم)
- ٢ تحتفل القاهرة بعيدها القومي في ذكرى القاهرة. (تحرير - احتلال - حريق - تأسيس)
- ٣ العبارة التي تعبر عن الحقيقة (الغردقة أجمل مدن مصر - الهرم الأكبر أهم معلم سياحي - الهرم الأكبر في الجيزة)

س ٥ أجب عما يلي:

- ١ ماذا يحدث إذا رسمت الخريطة بدون عنوان؟
- ٢ ما العلاقة بين (جواهر الصقلي ومدينة القاهرة).

الاختبار الخامس



س ١ لاحظ خريطة مصر المقابلة، ثم أجب عن التالي:

- ١ محافظة
- ٢ محافظة
- ٣ البحر

س ٢ أكمل العبارات التالية بالإجابة الصحيحة:

- ١ اللون الذي يدل على السلام في علم مصر هو
- ٢ الحدود التي تفصل بين دولتي مصر والسودان تسمى حدودًا
- ٣ يتكون العالم من قارات و محيطات.

س ٣ ضع علامة (✓) أمام العبارة الصحيحة وعلامة (X) أمام العبارة غير الصحيحة:

- ١ أكبر محافظة في مصر تعتبر محافظة من محافظات الحدود. ()
- ٢ الوقوف باحترام أثناء تحية العلم في البطولات واجب وطني. ()
- ٣ تقع مصر في قلب قارات العالم الحديث. ()

س ٤ اختر الإجابة الصحيحة من بين القوسين:

- ١ يستخدم كطريق للتجارة بين شمال وجنوب مصر: (خليج السويس - نهر النيل - قناة السويس - قناة سيزوستريس)
- ٢ تحتفل محافظة بعيدها القومي في ٦ يوليو من كل عام. (الجيزة - القاهرة - الإسكندرية - البحيرة)
- ٣ ممر مائي كان يستخدم للدوران حول قارة إفريقيا قديمًا. (خليج العقبة - قناة السويس - رأس الرجاء الصالح - البحر المتوسط)

س ٥ أجب عما يلي:

- ١ اذكر اثنين من مظاهر الاحتفال بالعيد القومي في محافظتك.
- ٢ ما النتائج المترتبة على حفر قناة السويس الجديدة؟

الأختبار الأول

1 لاحظ الخريطة، ثم أجب:



1- البحر.....

2- يشير الرقم (٢) إلى أحد عناصر الخريطة.....

3- محافظة حدود صحراوية.....

2 أكمل العبارات الآتية بكلمات مناسبة:

1- أصغر المحافظات المصرية مساحة هي.....

2- الجامع الموجود على شعار محافظة القاهرة هو.....

3- لون في علم مصر يدل علي السلام.....

3 اختر الإجابة الصحيحة مما بين القوسين:

1- المصدر المعاصر للأحداث يعد مصدرا..... (أوليا- ثانويا-اقتصاديا-تعليميا)

2- يتوسط علم مصر ولونة أصفر ذهبي..... (عصفور- نسر - تمساح- ثعبان)

3- يمكنك تحديد موقع مكان ما علي الطريق بواسطة..... (الصحف- التلفزيون- الراديو-GPS)

4 ضع علامة (صح) أمام العبارة الصحيحة وعلامة (خطأ) أمام العبارة غير الصحيحة:

1- لرسم خريطة تفصيلية لجزء من مصر فإنك تعتمد على الصور الجوية ()

2- يجب علينا تحري دقة المعلومات قبل نشرها ()

3- عدد محافظات الحدود الصحراوية أربع محافظات ()

4- يحد مصر من الناحية الشرقية البحر الأحمر ()

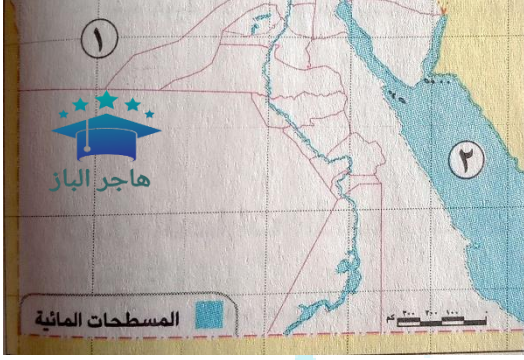
5 أجب عما يأتي :

1- أكتب تفسيرا واحدا لأهمية المصادر الأولية والثانوية.

2- وضح : أهمية قناة السويس الجديدة .

الاختبار الثاني

1 لاحظ الخريطة، ثم أجب:



1- يشير رقم (1) لإحدى محافظات الحدود الصحراوية.....

2- يشير رقم (2) إلى البحر.....

3- صوب: عنصر الخريطة المفقود هو **مقياس الرسم**

2 أكمل العبارات الآتية بكلمات مناسبة:

1- كل ماتم تدوينه بعد مرور زمن طويل من وقوع الحدث يسمى.....

2- طريق تجاري كانت تقطعة السفن قديما للدوران حول قارة إفريقيا هو.....

3- تعد محافظة الدقهلية من محافظات الوجهة.....

3 اختر الإجابة الصحيحة مما بين القوسين:

1- حفرت قناة سيزو ستريس في عهد الملك..... (ميناء- زوسر- سنوسرت الثالث- خوفو)

2- تربط قناة السويس بين البحر الأحمر والبحر..... (المتوسط- الأسود - العربي- الميت)

3- تقع مصر في قلب الوطن العربي، تعبر العبارة عن..... (ادعاء- رأى- حقيقة- خيال)

4- أكبر محافظات مصر مساحة هي..... (شمال سيناء- جنوب سيناء- الوادي الجديد- بنى سويف)

4 ضع علامة (صح) أمام العبارة الصحيحة وعلامة (خطأ) أمام العبارة غير الصحيحة:

1- يرمز اللون الأحمر في علم مصر إلى ظلم الأستعمار ()

2- الحدود التي تفصل محافظتي عن المحافظات المجاورة لها تسمى حدودا إدارية ()

3- الصور الجوية تغطي مساحات أكبر ومواقع أكثر من الصور الفضائية ()

4- الحقائق هي وجهات النظر الشخصية في الموضوعات المختلفة ()

5 أجب عما يأتي :

1- **فسر:** أهمية الخريطة للجيش .2- **دلل على صحة العبارة:** يرجع العيد القومي لمحافظة القاهرة إلى ذكرى تاريخية .

الاختبار الثالث

1 لاحظ الخريطة، ثم أجب:



1- عاصمة مصر.....

2- يشير رقم (٢) إلى

3- لتحديد الاتجاهات نستخدم عنصر الخريطة رقم.....

2 أكمل العبارات الآتية بكلمات مناسبة:

1- يتم التقاط الصور الفضائية بواسطة.....

2- يمكن معرفة المسافة الحقيقية بين مدينتين على الخريطة باستخدام.....

3- الكتب والموسوعات من المصادر.....

3 اختر الإجابة الصحيحة مما بين القوسين:

1- تحتفل القاهرة بعيدها القومي في ذكري.....

(بناء الجامع الأزهر - جلاء الإنجليز - تأسيس مدينة القاهرة - حفر قناة السويس)

2- يتخذ علم مصر شكل (دائرة - مثلث - مستطيل - مربع)

3- مساحة واسعة من اليابس تضم عددا من الدول يناسب هذا التعريف.....

(المحافظة - القارة - الدولة - المركز)

4 ضع علامة (صح) أمام العبارة الصحيحة وعلامة (خطأ) أمام العبارة غير الصحيحة:

1- يمثل اليابس قارات العالم الجديد والقديم معا ()

2- تحتفل جميع محافظات مصر بعيد قومي واحد ()

3- "فازت مصر بالميدالية الذهبية في لعبة الكاراتية ٢٠٢١م" تعد العبارة رأيا ()

4- يجب عليك رفع علم بلدك عاليا وعدم ملامسته للأرض ()

5 أجب عما يأتي :

1- اكتب سببا : لإنشاء العاصمة الإدارية الجديدة

2- اكتب دليلا واحدا: مصر دولة بحرية

الاختبار الرابع

1 لاحظ الخريطة، ثم أجب:



1- يشير رقم (1) إلى البحر

2- تقع المحافظة رقم (2) في الوجهه.....

3- يشير رقم (3) إلى

2 أكمل العبارات الآتية بكلمات مناسبة:

1- تقع مصر في الركن الشمالي الشرقي لقارة.....

2- تحتفل القاهرة بعيدها القومي في شهر.....

3- لتخفيف الضغط السكاني قامت الدولة بإنشاء

3 اختر الإجابة الصحيحة مما بين القوسين:

1- ملحن النشيد الوطني هو.....

(محمد يونس القاضي- سيد درويش- احمد شوقي - مصطفى صادق الرافعي)

2- يعود النسر في علم مصر إلى القائد.....

(عمرو بن العاص-صلاح الدين الايوبي - الظاهر بيبرس -جواهر الصقلي)

3- المصدر الأولي الذي يخبرنا عن حفر قناة سيزوستريس.....

(النقوش- الكتب-المقالات-الأبحاث)

4 ضع علامة (صح) أمام العبارة الصحيحة وعلامة (خطأ) أمام العبارة غير الصحيحة:

()

1- تقع الكنيسة المعلقة في محافظة القاهرة

()

2- حفرت قناة السويس بسواعد مصرية تحت إشراف مهندسين إنجليز

()

3- ترسم الخريطة بمجموعة من الرموز والألوان ومقياس رسم محدد

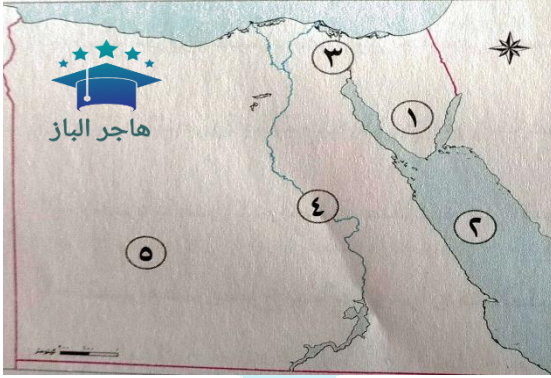
5 أجب عما يأتي :

1- فسر: وجود اللون الأبيض في علم مصر

2- ما النتائج المترتبة علي: موقع مصر الجغرافي المتميز .

الاختبار الخامس

1 لاحظ الخريطة، ثم أجب:



- ١- محافظة حدودية.....٢-البحر.....
- ٣- قناة.....٤- نهر.....
- ٥- الصحراء.....

2 أكمل العبارات الآتية بكلمات مناسبة:

- ١- تقع مصر في الركن الشمالي الشرقي لقارة.....
- ٢- تحتفل القاهرة بعيدها القومي في شهر.....
- ٣- لتخفيف الضغط السكاني قامت الدولة بإنشاء.....

3 اختر الإجابة الصحيحة مما بين القوسين:

- ١- يوضح النسبة بين المسافة على الخريطة ومايقابلها على الطبيعة هو.....

(عنوان الخريطة- وردة البوصلة- مقياس الرسم - مفتاح الخريطة)

- ٢- المقالات والكتب من مصادر المعلومات.....

(الثانوية -الأولية - الحقيقية -الخيالية)

- ٣- معلومات تم التأكد من صحتها.....

(معتقدات- حقائق-آراء-نظريات)

4 ضع علامة (صح) أمام العبارة الصحيحة وعلامة (خطأ) أمام العبارة غير الصحيحة:

()

١- الخريطة تساعد الطيار في تحديد المواقع

()

٢- المحافظة هي مساحة من الأرض تضم الدول بداخلها

()

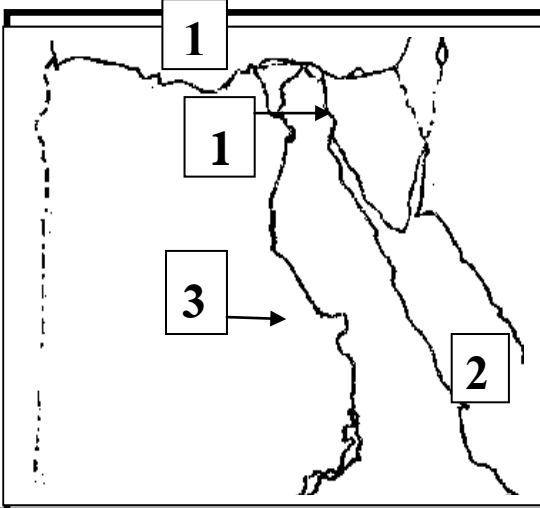
٣- يتميز الرأي بالدقة والموضوعية ونادرا ما يكون غير صحيح

5 أجب عما يأتي :

١- فسر: أهمية نهر النيل لمصر قديما

٢- حدد: اثنين من مظاهر الاحتفال بالعيد القومي لمحافظةك .

امتحان دراسات الصف الرابع (1)



السؤال الأول: (أ) أمامك خريطة صماء لمصر

لاحظ الخريطة وأجب عن الأسئلة

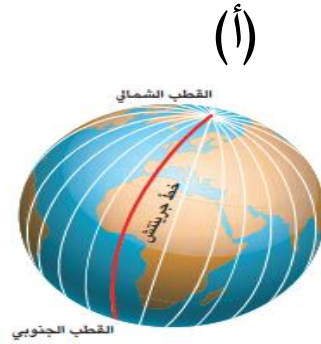
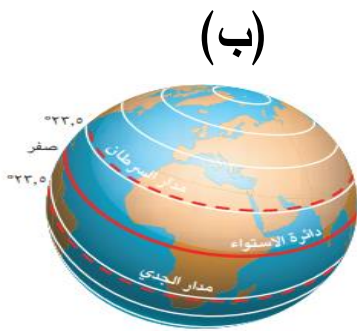
- 1- يشير رقم (1) إلى البحر
- 2- يشير رقم (2) إلى البحر
- 3- يشير رقم (3) إلى نهر
- 4- يشير رقم (4) إلى قناة

(ب) قارن بين خطوط الطول ودوائر العرض

المقارنة	خطوط الطول
التشابه	تستخدم في تحديد
الاختلاف	- تتخذ شكلا

السؤال الثاني: انظر إلى الصورتين، ثم أجب

- 1- الصورة (أ) تشير إلى
- 2- الصورة (ب) تشير إلى



(ب) اكتب نتيجة واحدة ترتبت على حفر قناة السويس الجديدة.

السؤال الثالث: (أ) اكتب كلمة (صواب) أو كلمة (خطأ) أمام كل عبارة

- (1) زادت أهمية مصر في العصر الحديث بعد حفر قناة السويس. ()
- (2) تقع دولة مصر شمال شرق قارة آسيا. ()
- (3) الكتب والموسوعات والمقالات من المصادر الأولية. ()
- (4) محافظة الوادي الجديد هي أكبر محافظات مصر. ()
- (5) يستخدم المعلم الخريطة في شرح الدروس. ()

(ب) اكتب ما تشير إليه العبارة

- معلومات أو أحداث تم إثبات صحتها والتأكد من دقتها.

(.....)

السؤال الرابع: (أ) ضع خطأ تحت الإجابة الصحيحة

- (1) أوروبا مساحة شاسعة من اليابس تضم عدد من الدول فهي بهذا تسمى:
(محافظة - دولة - قارة - جزيرة)
- (2) تتميز الصحراء الغربية بعدة ظاهرات تضاريسية أهمها:
(البحيرات المالحة - البحر الأحمر - الشعاب المرجانية - بحر الرمال العظيم)
- (3) يتكون علم مصر من:
(خمسة ألوان - ثلاثة ألوان - أربعة ألوان - ستة ألوان)
- (4) مدينة شرم الشيخ أجمل المدن المصرية (تعبر هذه العبارة عن:
(رأي - حقيقة - مقترح - خيال)
- (5) تقع مصر في الركن الشمالي الشرقي لقارة:
(إفريقيا - أستراليا - أمريكا الشمالية - أوروبا)
- (4) إحدى محافظات الحدود:
(مرسى مطروح - السويس - المنوفية - البحيرة)
- (ب) اكتب دليلاً على العبارة التالية: (مصر دولة بحرية)

.....

امتحان دراسات (1) الصف الرابع

السؤال الأول: لاحظ الخريطة المقابلة واكتب مدلول الأرقام على الخريطة



1- يشير رقم (1) على الخريطة إلى

2- يشير رقم (2) على الخريطة إلى

3- يشير رقم (3) على الخريطة إلى

السؤال الثاني: اكتب كلمة (صواب) أو كلمة (خطأ)

- (1) يدل اللون الأحمر في علم مصر على السلام. (.....)
- (2) يدل النسر الذي يتوسط العلم على القوة والشجاعة. (.....)
- (3) تُستخدم الأقمار الصناعية في التقاط الصور الجوية. (.....)
- (4) يستخدم المعلم الخريطة في شرح الدروس. (.....)
- (5) الكتب والموسوعات والمقالات من المصادر الأولية. (.....)

السؤال الثالث: ضع خطأً تحت الإجابة الصحيحة مما بين القوسين

- (1) يتخذ علم مصر شكل
(دائرة - مثلث - مستطيل - مربع)
- (2) يتكون علم مصر من
(خمسة ألوان - ثلاثة ألوان - أربعة ألوان - ستة ألوان)

(3) إحدى محافظات الحدود.....

(مرسى مطروح - السويس - المنوفية - البحيرة)

(4) تقع مصر في الركن الشمالي الشرقي لقارة

(إفريقيا - أستراليا - أمريكا الشمالية - أوروبا)

(5) مساحة واسعة من اليابس تضم عددا من الدول. تنطبق هذه العبارة على:

(إفريقيا - مصر - أسيرط - الدلتا)

السؤال الرابع: أجب عن الأسئلة الآتية

(1) اكتب تفسيرا واحدا لإنشاء العاصمة الإدارية الجديدة .

..... -

(2) اكتب نتيجة واحدة ترتبت على حفر قناة السويس الجديدة.

..... -

(3) اكتب تفسيرا واحدا لوجود اللون الأحمر على في علم مصر.

..... -

(4) اكتب تفسيرا لأهمية الخريطة للجيش.

..... -

السؤال الخامس: صوب ما تحته خط

(1) الشمال الشرقي من الجهات الأصلية . (.....)

(2) يتم التقاط الخريطة بآلة تصوير . (.....)

(3) خطوط الطول تتخذ شكلا أفقياً . (.....)

- د / إسلام عطية
- الاسم :
- توقيع ولي الأمر :

اختبار شامل على الوحدة الأولى النموذج الأول

- الصف : الرابع الابتدائي
- مادة : الدراسات الاجتماعية
- تدريبات بالنظام الحديث

السؤال الأول : (أ) لاحظ خريطة مصر المقابلة ثم أجب عن التالي :



- (أ) عاصمة مصر
- (ب) أحد عناصر الخريطة يساعدنا في تحديد الاتجاهات
- (ج) قناة
- (د) البحر
- (هـ) محافظة

(ب) بم تفسر: أهمية الخريطة للفلاح؟

السؤال الثاني: (أ) أكمل العبارات الآتية بكلمات مناسبة:

- (أ) الجهة المقابلة للغرب هي
- (ب) حضر الملك قناة سيزوستريس.
- (ج) تعد شرياناً ملاحياً يربط بين الشرق والغرب.
- (د) محافظة سوهاج من محافظات الوجه
- (هـ) يدل النسر في علم مصر على

(ب) ما وجه التشابه بين: الصور الجوية والصور الفضائية؟

السؤال الثالث: (أ) ضع علامة (✓) أمام العبارة الصحيحة وعلامة (X) أمام العبارة غير الصحيحة :

- () يستخدم مقياس الرسم في تحديد الاتجاهات على الخريطة.
- () المخاطبات والمحادثات التي عاصرت الحدث من المصادر الأولية.
- () المحيط الهادي عبارة عن مساحة شاسعة من الماء المالح قليلة العمق.
- () تعد محافظة البحر الأحمر محافظة حدودية.
- () تحتفل جميع محافظات مصر بعيد قومي واحد.
- () الجامع في شعار محافظة القاهرة يدل على جزء من تاريخها.

(ب) ماذا يحدث إذا : لم يتم حفر قناة السويس الجديدة ؟

(ج) اكتب دليلاً على : أن مصر دولة بحرية.

السؤال الرابع، (أ) اختر الإجابة الصحيحة من بين البدائل التالية :

- (١) لمعرفة مدلول الرموز والألوان على الخريطة فإننا نلجأ إلى :
(عنوان الخريطة - مفتاح الخريطة - وردة البوصلة - مقياس رسم الخريطة)
- (٢) "بلغ عدد سكان مصر ٩٤ مليون نسمة عام ٢٠١٧م" تعبر هذه العبارة عن :
(رأي - خيال - حقيقة - وجهة نظر)
- (٣) يحيط اليابس بمصر من جهتي
(الشمال والغرب - الشرق والجنوب - الجنوب والغرب - الشمال والجنوب)
- (٤) الحدود التي تفصل بين المحافظات هي الحدود ..
(السياسية - الإدارية - البحرية - الجبلية)
- (٥) تحتفل القاهرة بعيدها القومي في ذكرى
(بناء الجامع الأزهر - بناء مدينة القاهرة - رحيل الإنجليز - حفر قناة السويس)
- (٦) اللون الذي يدل على نضال الشعب المصري هو اللون
(الأسود - الأحمر - الأبيض - الأخضر)
- (ب) ما النتائج المترتبة على : اتساع مساحة مصر ؟

السؤال الخامس، (أ) صوب ما تحته خط فيما يلي :

- (١) يساعد مقياس الرسم في معرفة الموضوع الذي تتناوله الخريطة.
- (٢) تعد الموسوعات من المصادر الأولية للمعلومات.
- (٣) وضع القائد صلاح الدين الأيوبي حجر الأساس لمدينة القاهرة عام ٩٦٩م.
- (٤) المساحة الكبيرة التي تضم عدداً من الدول داخلها تسمى محافظة.
- (٥) تم بناء العاصمة الإدارية الجديدة لتخفيف الازدحام وتكديس الخدمات عن الإسكندرية.
- (٦) العلم هو راية تتخذها كل محافظة لتعبر عن نشاط سكانها أو جزء من تاريخها.
- (ب) اكتب اثنين من : السلوكيات المعبر عن احترامك للعلم المصري ؟

ملحوظة هامة : كل سؤال وضع في هذا الامتحان من أسئلة الوزارة الرسمية التي وردت في امتحانات الترم الأول العام الماضي.

تمنياتي لكم بدوام التوفيق والنجاح يارب العالمين

- د / إسلام عطية
- الاسم :
- توقيع ولي الأمر :

اختبار شامل على الوحدة الأولى النموذج الثاني

- الصف : الرابع الابتدائي
- مادة : الدراسات الاجتماعية
- تدريبات بالنظام الحديث

السؤال الأول : (أ) لاحظ خريطة مصر المقابلة ثم أجب عن التالي :



- (١) قناة حضرها الملك سنوسرت الثالث
- (٢) محافظة
- (٣) نهر
- (٤) البحر
- (٥) محافظة

(ب) بم تفسر: وجود النسرفي علم مصر؟

السؤال الثاني: (أ) أكمل العبارات الآتية بكلمات مناسبة:

- (١) يساعد
- (٢) تقع مصرفي الركن لقارة إفريقيا.
- (٣) المعلومات التي تم التأكد من صحتها ودقتها تسمى
- (٤) محافظة البحيرة من محافظات الوجه
- (٥) منار العلم في العالم أجمع هو الجامع

(ب) ما وجه التشابه بين: النقوش والمخاطبات الرسمية؟

السؤال الثالث: (أ) ضع علامة (✓) أمام العبارة الصحيحة وعلامة (X) أمام العبارة غير الصحيحة :

- () يدل اللون الأسود في علم مصر على الظلم الذي تعرضت له مصر في فترات الاستعمار.
- () تفصل الحدود الدولية بين محافظتي والمحافظات المجاورة.
- () ساعد نهر النيل قديماً على زيادة التجارة بين مصر ودول وسط إفريقيا.
- () تعد محافظة البحر الأحمر محافظة حدودية.
- () يختلف العيد القومي لمحافظة البحيرة عن العيد القومي لمحافظة القاهرة.
- () يفتتح المحافظ عدداً من المشروعات في المحافظة في عيد الفطر المبارك.

(ب) ما العلاقة بين : جواهر الصقلي والقاهرة؟

(ج) ماذا يحدث إذا لم : مقياس الرسم على الخريطة؟

السؤال الرابع: (أ) اختر الإجابة الصحيحة من بين البدائل التالية :

- (١) ملحن النشيد الوطني بلادي بلادي هو
- (جمال حمدان - سيد درويش - محمد يونس - طه حسين)
- (٢) مساحة من اليابس تضم مجموعة من المراكز والأحياء هي
- (القارة - المحافظة - القرية - المدينة)
- (٣) يحيط الماء بمصر من جهتي
- (الشمال والغرب - الشرق والجنوب - الجنوب والغرب - الشمال والشرق)
- (٤) اتجاه الجنوب يقابل اتجاه
- (الشمال - الغرب - الشرق - الشمال الشرقي)
- (٥) مساحة من الماء المالح ذات أعماق كبيرة تسمى
- (البحر - النهر - المحيط - الخليج)
- (٦) المعلومات التي تم التأكد من صحتها :
- (آراء - معتقدات - وجهات نظر - حقائق)

(ب) اكتب نتيجة واحدة ترتبت على : تميز موقع محافظة القاهرة ووجود معظم الوزارات بها ؟

السؤال الخامس: (أ) صوب ما تحته خط فيما يلي :

- (١) فيلم تسجيلي عن عملية بناء قناة السويس الجديد ، يعد ذلك مصدراً ثانوياً.
- (٢) يساعد مقياس الرسم على تحديد الاتجاهات الأصلية والفرعية على الخريطة.
- (٣) يقوم رئيس الجمهورية بافتتاح عدداً من المشروعات في العيد القومي للمحافظة.
- (٤) القارة هي مساحة من الأرض تضم مجموعة من المراكز والأحياء.
- (٥) يدل اللون الأسود في علم مصر على مرحلة النضال ودماء الشهداء.
- (٦) تحتفل محافظة الجيزة بعيدها القومي يوم ٦ يوليو من كل عام

(ب) اكتب اثنين من : المعالم الأثرية التي تتميز بها محافظة القاهرة ؟

ملحوظة هامة : كل سؤال وضع في هذا الامتحان من أسئلة الوزارة الرسمية التي وردت في امتحانات الترم الأول العام الماضي.

تمنياتي لكم بدوام التوفيق والنجاح يارب العالمين